



AFOR Umbria

Agenzia Forestale Regionale

**Bando di concorso pubblico per titoli ed esami
per la copertura di complessivi n. 18 posti
Cat. C posizione economica C1
a tempo pieno e indeterminato
di profili tecnici e amministrativi da impiegare
presso l'Agencia Forestale Regionale dell'Umbria**

**Istruttore amministrativo Cat. C
del CCNL Funzioni Locali**

Prova 02

- 1 In base alla legge 18/2011 della Regione Umbria, sull'operato dell'Agenzia forestale regionale svolge funzioni di vigilanza:
- A** la Giunta regionale
 - B** il Consiglio regionale
 - C** Il Ministero dell'Ambiente e della Sicurezza energetica

- 2 In base alla legge 18/2011 della Regione Umbria, l'utilizzazione temporanea del personale dell'Agenzia forestale regionale è consentita da parte:
- A** degli Enti strumentali regionali
 - B** dello Stato
 - C** di altre Regioni

- 3 In base alla legge 18/2011 della Regione Umbria, quale dei seguenti è un compito dell'Agenzia forestale regionale, per il quale non si richiedono deleghe e preventivi accordi o protocolli?
- A** Imboschimento e rimboschimento
 - B** Valorizzazione delle biomasse agricole e forestali
 - C** Gestione dei beni appartenenti al demanio e al patrimonio dei Comuni

- 4 In base al Regolamento di organizzazione e funzionamento dell'Afor Umbria, l'Agenzia è organizzata in Servizi. NON è uno di essi:
- A** Servizio paghe e contributi
 - B** Servizio progettazione-pianificazione
 - C** Servizio direzione lavori

- 5 Secondo quanto riportato nell'art. 23 del d.lgs. 50/2016, l'individuazione della localizzazione o del tracciato dell'infrastruttura:
- A** è prevista nel progetto di fattibilità tecnica ed economica (ex progetto preliminare), salvo circostanze imprevedibili
 - B** deve essere indicata solo nel progetto esecutivo
 - C** sarà individuata dal R.U.P. (Responsabile Unico del Procedimento) al termine dell'iter progettuale

- 6 Ai sensi dell'art. 3 del d.lgs. 50/2016, sono ricompresi nei "settori ordinari" dei contratti pubblici:
- A** i settori diversi da quelli del gas, energia termica, elettricità, acqua, trasporti, servizi postali, sfruttamento di area geografica
 - B** i settori del gas, energia termica, elettricità, acqua
 - C** solo il settore dei servizi postali

-
- GB0007
- 7 **Secondo l'art. 61 del d.lgs. 50/2016, la Pubblica Amministrazione può scegliere i propri contraenti attraverso una procedura ristretta. Tale procedura consiste in una gara:**
- A** riservata a coloro che siano stati invitati a partecipare dalla stessa Pubblica Amministrazione
 - B** aperta a chiunque
 - C** aperta a chiunque abbia interesse a partecipare e posseda i requisiti necessari
-

- GB0008
- 8 **Fatte salve le eccezioni di legge, il criterio per l'aggiudicazione degli appalti, ai sensi dell'art. 95 del d.lgs. 50/2016, è:**
- A** quello dell'offerta economicamente più vantaggiosa o quello del minor prezzo
 - B** quello del miglior rapporto qualità/prezzo
 - C** solo quello del minor prezzo
-

- GB0009
- 9 **Ai sensi dell'articolo 97 del d.lgs. 50/2016, si definiscono offerte anormalmente basse:**
- A** le offerte che appaiono anormalmente basse, sulla base di un giudizio tecnico sulla congruità, serietà, sostenibilità e realizzabilità dell'offerta
 - B** le offerte che presentano un prezzo molto alto rispetto alle medie dei prezzi delle offerte concorrenti
 - C** le offerte inferiori a percentuali prefissate dalla stazione appaltante
-

- GB0010
- 10 **Ai sensi del d.lgs. 50/2016, che cosa s'intende per "contratti sotto soglia"?**
- A** Contratti pubblici il cui valore stimato al netto dell'IVA è inferiore alla soglia di cui alla normativa europea
 - B** Contratti pubblici il cui valore stimato al netto dell'IVA è inferiore alla soglia minima per accedere ai contributi europei
 - C** Contratti pubblici il cui valore stimato al netto dell'IVA è inferiore alla soglia prevista nel regolamento comunale o provinciale dei contratti
-

- GB0011
- 11 **Per soddisfare la richiesta relativa al possesso dei requisiti di carattere economico, finanziario, tecnico e professionale necessari per la partecipazione a un appalto pubblico, un operatore economico può ricorrere:**
- A** all'avvalimento
 - B** al subappalto
 - C** all'aggregazione
-

- GB0012
- 12 **Ai sensi del Codice dei contratti pubblici, prima dell'avvio delle procedure di affidamento dei contratti pubblici, le stazioni appaltanti:**
- A** decretano o determinano di contrarre, individuando gli elementi essenziali del contratto e i criteri di selezione degli operatori economici e delle offerte
 - B** decretano o determinano di contrarre, individuando esclusivamente gli elementi essenziali del contratto
 - C** valutano le offerte al fine di determinare gli elementi essenziali del futuro contratto
-

-
- GB0013**
- 13** La richiesta di accesso ai documenti amministrativi deve essere motivata in base alle disposizioni della legge 241/1990?
- A** Sì, sempre
 - B** No, mai
 - C** Solo se contiene dati personali di altri soggetti interessati
-
- GB0014**
- 14** Quale tra i seguenti compiti rientra tra quelli propri del responsabile del procedimento, ai sensi della legge 241/1990, come modificata dalla legge 15/2005?
- A** Valutare, ai fini istruttori, le condizioni di ammissibilità, i requisiti di legittimazione e i presupposti che siano rilevanti per l'emanazione di provvedimento
 - B** Validare, ai fini decisorii, i presupposti rilevanti per l'emanazione del provvedimento
 - C** Valutare, ai fini ordinatori, i presupposti rilevanti per l'emanazione del provvedimento senza valutare le condizioni di ammissibilità
-
- GB0015**
- 15** Ai sensi della legge 241/1990, come modificata dalla legge 15/2005, nella comunicazione personale di avvio del procedimento, la Pubblica Amministrazione deve indicare:
- A** tra l'altro, la data entro la quale deve concludersi il procedimento e i rimedi esperibili in caso di inerzia dell'Amministrazione
 - B** esclusivamente i rimedi esperibili in caso di inerzia dell'Amministrazione
 - C** la data entro la quale deve concludersi il procedimento, solo se tale richiesta è specificata nell'istanza
-
- GB0016**
- 16** Ai sensi della legge 241/1990, la Pubblica Amministrazione può aggravare il procedimento:
- A** solo per straordinarie e motivate esigenze imposte dallo svolgimento dell'istruttoria
 - B** solo con riferimento all'adozione di atti tributari
 - C** in ogni caso, a sua discrezione
-
- GB0017**
- 17** A norma del d.P.R. 445/2000, l'attestazione, da parte di un pubblico ufficiale, che la sottoscrizione è stata apposta in sua presenza, previo accertamento dell'identità della persona che sottoscrive, prende il nome di:
- A** autenticazione di sottoscrizione
 - B** gestione documentale
 - C** segnatura di protocollo
-
- GB0018**
- 18** A norma della legge 241/1990, il responsabile del procedimento amministrativo:
- A** propone l'indizione o, avendone la competenza, indice le Conferenze di servizi
 - B** fissa il termine per l'adozione del provvedimento finale
 - C** non può mai valutare, neanche a fini istruttori, i presupposti che siano rilevanti per l'emanazione di provvedimento

-
- 19 **Ai sensi della legge 241/1990, chi è il controinteressato, nell'ambito del diritto di accesso?** GB0019
- A** Il soggetto individuato o facilmente individuabile in base alla natura del documento richiesto, che dall'esercizio dell'accesso vedrebbe compromesso il suo diritto alla riservatezza
 - B** L'interessato che non ha presentato istanza, ma che si può avvalere della richiesta fatta
 - C** Una persona che ha un interesse attivo nel procedimento
-
- 20 **Il Regolamento europeo 2016/679 (GdPR), in tema di consenso al trattamento dei dati personali di una persona fisica:** GB0020
- A** richiede che il consenso sia espresso mediante un atto positivo inequivocabile
 - B** ammette che il consenso possa essere anche tacito
 - C** ammette che il consenso possa essere prestato per inattività, purché non ci sia un rifiuto esplicito
-
- 21 **Ai sensi del d.P.R. 445/2000, le dichiarazioni sostitutive:** GB0021
- A** sostituiscono un certificato, e riguardano dati contenuti in pubblici registri
 - B** sono documenti che vengono rilasciati dall'Amministrazione in caso di smarrimento degli originali
 - C** attengono a situazioni non registrate in atti di certazione
-
- 22 **In merito all'adozione degli atti amministrativi, la motivazione:** GB0022
- A** deve essere formata contestualmente all'adozione della decisione dell'Amministrazione
 - B** non è prevista dalla normativa
 - C** non deve mai essere formata contestualmente all'adozione della decisione dell'Amministrazione
-
- 23 **L'accesso civico generalizzato, secondo quanto previsto dal d.lgs. 33/2013 e s.m.i., è:** GB0023
- A** il diritto di accedere ai dati e ai documenti detenuti dalle Pubbliche Amministrazioni, ulteriori rispetto a quelli oggetto di pubblicazione obbligatoria, nel rispetto dei limiti relativi alla tutela di taluni interessi giuridicamente rilevanti
 - B** il diritto di chiunque di richiedere a qualunque titolo documenti, informazioni o dati che la Pubblica Amministrazione detiene
 - C** il diritto riconosciuto ai soggetti titolari di un interesse concreto e attuale corrispondente a una situazione giuridicamente tutelata e collegata al documento del quale è richiesto l'accesso
-
- 24 **Che cosa genera la mancanza di uno degli elementi essenziali dell'atto?** GB0024
- A** La nullità dell'atto
 - B** L'annullabilità dell'atto
 - C** L'inefficacia dell'atto

- 25 In base al d.lgs. 39/2013, gli atti di conferimento di incarichi adottati in violazione delle disposizioni del medesimo decreto e i relativi contratti:
- A** sono nulli
 - B** sono annullabili
 - C** sono nulli, ma i contratti sono sanabili per la parte eventualmente eseguita

- 26 L'inconferibilità prevista dal d.lgs. 39/2013 concerne tutti i seguenti soggetti, TRANNE:
- A** coloro che rivestano la carica di amministratore delegato di un ente pubblico
 - B** coloro che abbiano riportato condanne penali per i reati previsti dal Capo I del Titolo II del libro Secondo del codice penale
 - C** coloro che abbiano svolto incarichi o ricoperto cariche in enti di diritto privato regolati o finanziati da pubbliche amministrazioni

- 27 In base all'articolo 1, comma 2-bis, della legge 190/2012, quale/i dei seguenti contenuti NON deve/devono necessariamente figurare nel Piano nazionale anticorruzione?
- A** Le autorizzazioni allo svolgimento di incarichi esterni da parte dei dirigenti amministrativi degli Enti pubblici nazionali
 - B** L'individuazione dei principali rischi di corruzione
 - C** L'indicazione di obiettivi

- 28 In base alla legge 190/2012, in relazione alla vigilanza e al controllo sull'effettiva applicazione e sull'efficacia delle misure adottate dalle Pubbliche Amministrazioni in conformità al loro piano di prevenzione della corruzione, l'Autorità nazionale anticorruzione esercita poteri:
- A** ispettivi
 - B** coercitivi
 - C** giurisdizionali

- 29 Ai sensi dell'articolo 43 del d.lgs. 33/2013, chi segnala all'ufficio di disciplina i casi di inadempimento degli obblighi in materia di pubblicazione previsti dalla normativa vigente?
- A** Il responsabile per la trasparenza
 - B** L'Autorità Nazionale Anticorruzione
 - C** Il dirigente responsabile dell'ufficio Comunicazione

- 30 Ai sensi dell'art. 1 comma 8 della legge 190/2012, l'organo di indirizzo adotta il piano triennale di prevenzione della corruzione:
- A** curandone la trasmissione all'Autorità nazionale anticorruzione
 - B** garantendone la segretezza
 - C** curandone la trasmissione al Ministero della Giustizia

31

Per quanto concerne l'accesso civico a dati e documenti è corretto affermare che:

- A** il rilascio di dati o documenti in formato elettronico o cartaceo è gratuito, salvo il rimborso del costo effettivamente sostenuto e documentato dall'Amministrazione per la riproduzione su supporti materiali
- B** il rilascio di dati o documenti è gratuito solo se avviene in formato elettronico, è sempre oneroso se avviene in formato cartaceo
- C** il rilascio di dati o documenti sia in formato elettronico che cartaceo è sempre soggetto alla corresponsione dei Diritti di Segreteria

32

Nell'ambito del trattamento dei dati le finalità del Regolamento Generale sulla Protezione dei Dati (Regolamento europeo EU 679/2016) sono:

- A** stabilire le norme relative alla protezione delle persone fisiche con riguardo al trattamento dei dati personali, nonché le norme relative alla libera circolazione di tali dati
- B** garantire l'accessibilità totale ai dati in possesso delle P.A. nel rispetto del principio della trasparenza
- C** favorire la transizione al digitale delle P.A. tramite l'uso di dati aperti

33

In base al d.lgs. 165/2001, quale effetto si produce se una P.A. viola disposizioni imperative riguardanti l'assunzione di dipendenti con forme contrattuali flessibili?

- A** Il lavoratore matura il diritto al risarcimento del danno
- B** La cessazione immediata del rapporto di lavoro flessibile e la costituzione di un rapporto di lavoro a tempo indeterminato
- C** In ogni caso il licenziamento del dirigente responsabile

34

In una Pubblica Amministrazione, ogni provvedimento disciplinare deve essere adottato previa tempestiva contestazione scritta dell'addebito al dipendente. Questa affermazione è vera?

- A** Sì, a eccezione del rimprovero verbale
- B** No, in quanto non è necessaria contestazione scritta
- C** Sì, incluso il rimprovero verbale

35

Secondo l'art. 55-quater del d.lgs. 165/2001, in caso di licenziamento disciplinare, al pubblico dipendente è sempre dato il preavviso?

- A** No, ci sono casi in cui il licenziamento disciplinare è senza preavviso
- B** Sì, il licenziamento disciplinare è sempre con il preavviso
- C** No, il preavviso è dato esclusivamente nel caso di licenziamento per falsa attestazione della presenza in servizio

36

Secondo l'art. 5 del Codice di comportamento dei dipendenti delle Pubbliche Amministrazioni (d.P.R. 62/2013), il dipendente pubblico:

- A** non è tenuto a comunicare la sua adesione a un partito politico
- B** è obbligato a comunicare la sua adesione a un partito politico
- C** è tenuto a comunicare la sua adesione a un partito politico, solo se gli interessi del partito siano coinvolti nell'attività dell'ufficio

37 **Ai sensi dell'articolo 7 del Codice di comportamento dei dipendenti pubblici (d.P.R. 62/2013), il dipendente:**

- A** si astiene dal partecipare all'adozione di decisioni o ad attività che possano coinvolgere interessi propri
- B** può partecipare all'adozione di decisioni o ad attività che coinvolgono interessi propri
- C** deve partecipare all'adozione di decisioni o ad attività che coinvolgono interessi propri

38 **Ai sensi dell'art. 4 del d.P.R. 62/2013 (Codice di comportamento dei dipendenti pubblici), il dipendente cui siano pervenuti regali e altre utilità comunque ricevuti fuori dai casi consentiti:**

- A** deve immediatamente metterli a disposizione dell'Amministrazione perché siano restituiti o devoluti a fini istituzionali
- B** può trattenerli, purché ne dia comunicazione al dirigente apicale
- C** può metterli a disposizione dell'Amministrazione per la messa in vendita

39 **Ai sensi dell'articolo 19 del CCNL 2016-2018 comparto Funzioni Locali, nel contratto di lavoro individuale, per il quale è richiesta la forma scritta, sono comunque indicati:**

- A** la data di inizio del rapporto di lavoro
- B** il titolo di studio necessario per l'accesso alla qualifica in questione
- C** la posizione economica iniziale e i tempi in cui vengono maturati gli aumenti di compenso dovuti all'anzianità lavorativa

40 **In base al CCNL Addetti lavori sistemazione idraulico forestale e idraulico-agraria, la contrattazione collettiva è strutturata sui livelli:**

- A** nazionale e regionale
- B** nazionale, provinciale e regionale
- C** nazionale, provinciale, regionale e comunale

41 **"Chi è bravo in filosofia ha una buona memoria; William è bravo sia in italiano sia in filosofia; chi è bravo in matematica è bravo in italiano". Se le precedenti affermazioni sono vere, quale delle seguenti è necessariamente vera?**

- A** William ha una buona memoria
- B** Chi è bravo in matematica ha una buona memoria
- C** Chi è bravo in matematica è bravo anche in filosofia

42 **Completare la seguente successione numerica: 7; 8; 10; 14; 22; 38; 70; ?**

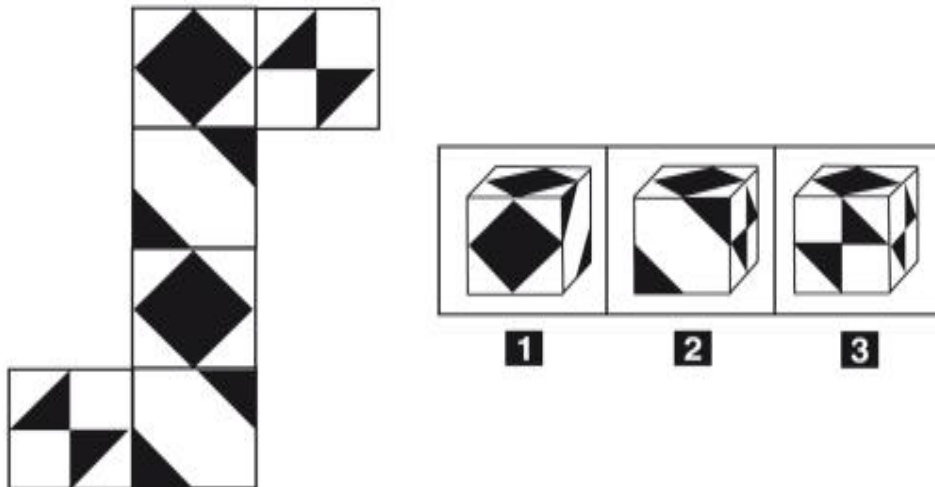
- A** 134
- B** 124
- C** 144

- 43 Un nuovo gioco ha le seguenti regole: se un numero è divisibile per 4 vale 7 punti; se è divisibile per 7 vale 4 punti. In base a tali regole, quale dei seguenti numeri vale di più?
- A** 20
 - B** 35
 - C** 21

- 44 Se l'affermazione "tutte le atlete statunitensi sono primatiste mondiali" è FALSA, quale delle seguenti proposizioni è necessariamente vera?
- A** Almeno un'atleta statunitense non è primatista mondiale
 - B** Nessun'atleta statunitense è primatista mondiale
 - C** Una buona parte delle atlete statunitensi è primatista mondiale


- 45 Indicare in quale delle seguenti alternative la lettera W è presente un numero maggiore di volte rispetto alla lettera V.
- A** VVVVVVVVVVVVVVVVV
 - B** VVVVVVVVVVVVVVV
 - C** VVVVVVVVVVVVVVV

FIGURA SZ 66



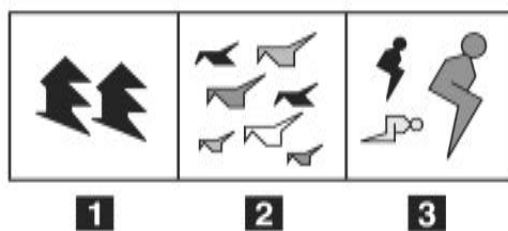
- 46 Rispondere al seguente quesito facendo riferimento alla FIGURA SZ 66
Quale cubo corrisponde alla composizione volumetrica della figura piana proposta?
- A** Figura 2
 - B** Figura 1
 - C** Figura 3

FIGURA SU 82



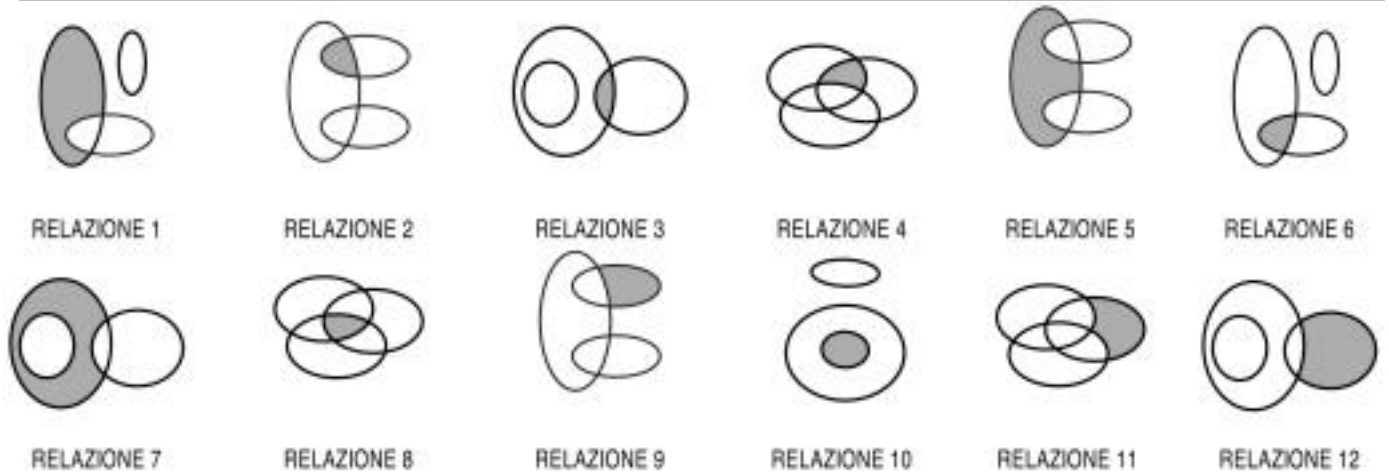
- 47 Rispondere al seguente quesito facendo riferimento alla FIGURA SU 82 GB0047
 Si osservi la serie incompleta di figure: quale delle alternative proposte la completa correttamente?
A Figura 1
B Figura 2
C Figura 3

FIGURA SU 97



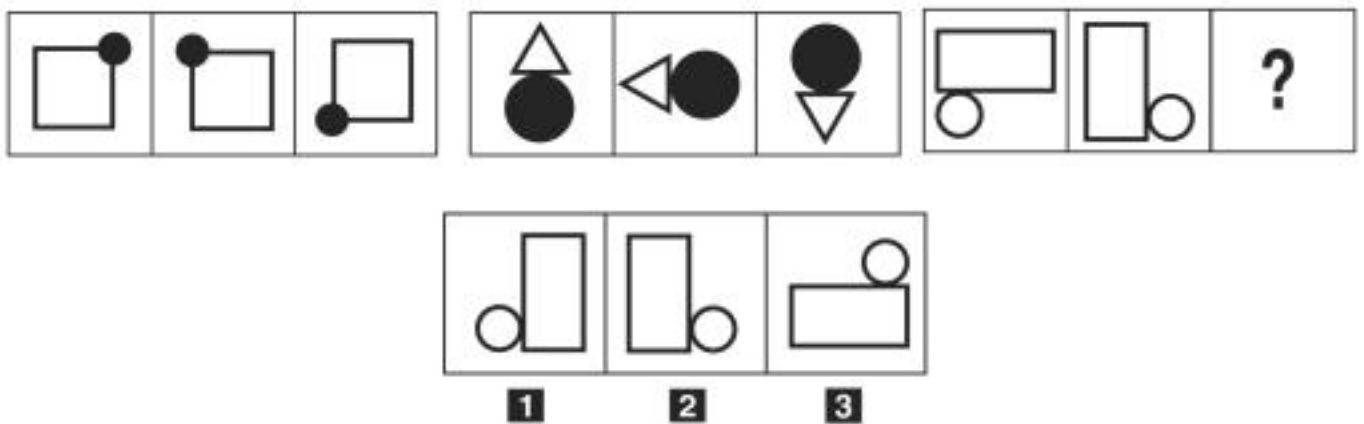
- 48 Rispondere al seguente quesito facendo riferimento alla FIGURA SU 97 GB0048
 Individuare la figura da scartare.
A Figura 1
B Figura 2
C Figura 3

DIAGRAMMA RY 02



- 49 Rispondere al seguente quesito facendo riferimento al DIAGRAMMA RY 02 GB0049
 I tre termini "Neonati, Autisti, Norvegesi" sono legati da una relazione insiemistica. All'interno di questa relazione, "Adolescente norvegese" si trova nella parte annerita della:
- A** relazione 5
 - B** relazione 6
 - C** relazione 12

FIGURA UR 76



- 50 Rispondere al seguente quesito facendo riferimento alla FIGURA UR 76 GB0050
 Individuare la figura che completa la serie.
- A** Figura 3
 - B** Figura 1
 - C** Figura 2

- 51 Se Angela è più vecchia di Giuseppina e Michele è più vecchio di Angela, qual è la persona più vecchia? GB0051
- A** Michele
 - B** Angela o Michele
 - C** Giuseppina

52

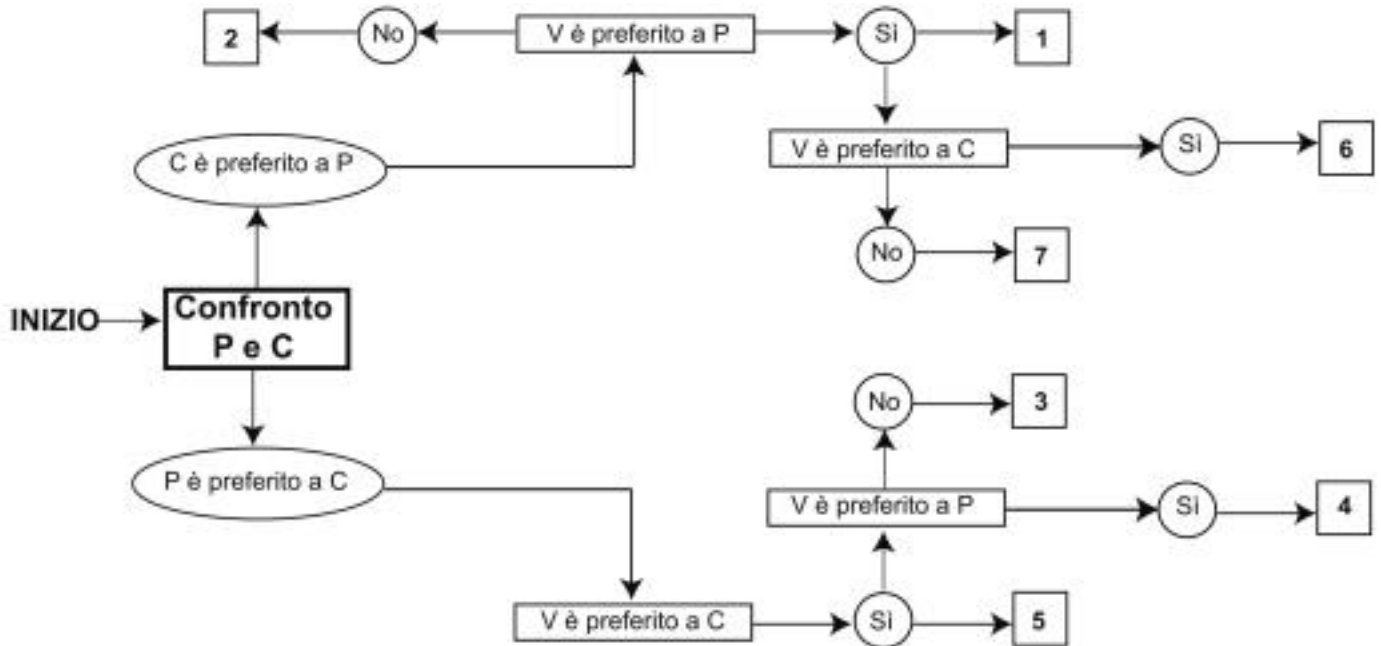
Se le lancette di un orologio segnano le 17.30 di giovedì, tra 40 ore e 45 minuti saranno:

- A** le 10.15 di sabato
- B** le 6.15 di martedì
- C** le 22.15 di domenica

DIAGRAMMA SZ 09

Un'indagine di mercato indaga sulle preferenze alimentari degli italiani. Il confronto avviene valutando a due a due tre alimenti, giudicandone sempre uno come preferito all'altro e mai due come ugualmente preferiti. L'obiettivo quindi è stabilire un ordine di preferenza.

P = pasta, C = carne, V = verdura.



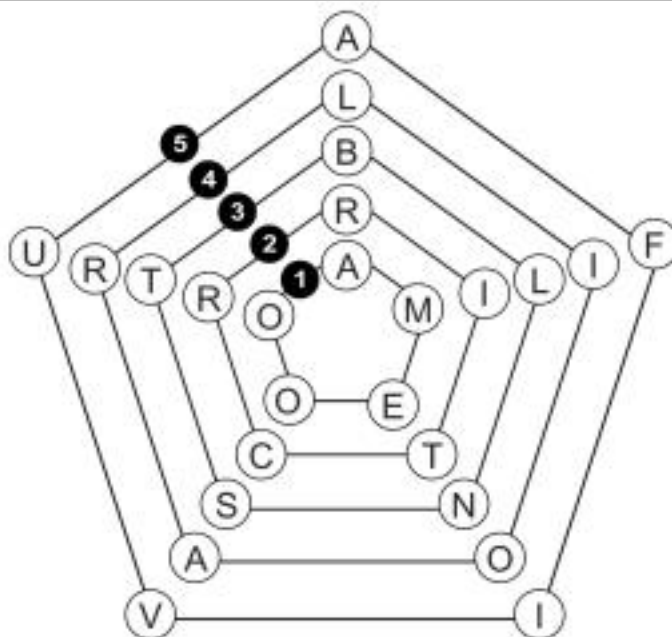
53

Rispondere al seguente quesito facendo riferimento al DIAGRAMMA SZ 09

Indicare l'ordine di preferenza risultante alla casella "7" del diagramma.

- A** CVP
- B** CPV
- C** VPC

FIGURA UT 35



- 54 Rispondere al seguente quesito facendo riferimento alla FIGURA UT 35 GB0054
 Quale pentagono è necessario eliminare affinché si formino in ogni raggio parole di senso compiuto?
 A Il pentagono 2
 B Il pentagono 3
 C Il pentagono 1
-
- 55 Quali, tra i termini proposti, completano correttamente la seguente proporzione verbale? Lindo : pulito = X : Y GB0055
 A X = acuto; Y = intelligente
 B X = profumato; Y = fresco
 C X = casa; Y = strada
-
- 56 Se 4 panettieri preparano 16 panini in 20 minuti, lavorando allo stesso ritmo quanti panini prepareranno 5 panettieri in un'ora? GB0056
 A 60 panini
 B 48 panini
 C 72 panini
-
- 57 Un sito che offre corsi online ha 360 iscritti, di cui $\frac{2}{5}$ sono femmine. Si sa inoltre che il 25% degli iscritti ha scelto di frequentare il corso di francese. Prendendo a caso un iscritto a questo sito, qual è la probabilità che sia una studentessa che NON studia francese? GB0057
 A $\frac{3}{10}$
 B $\frac{3}{4}$
 C $\frac{1}{10}$

-
- GB0058
- 58 Si dispone di una bilancia a due piatti con il braccio sinistro che misura la metà del braccio destro. Se nel piatto sinistro vengono posti 14 pesi uguali fra loro, quanti pesi dello stesso tipo devono essere posizionati nel piatto destro affinché la bilancia risulti in equilibrio?
- A** 7
 - B** 28
 - C** 42
-
- GB0059
- 59 Gilda investe 20.000 euro in un fondo che garantisce un rendimento annuo del 50% per 2 anni. A quanto ammonta l'incremento di valore registrato dalla sua partecipazione solamente nel primo anno?
- A** 10.000 euro
 - B** 15.000 euro
 - C** A un importo identico a quello del secondo anno
-
- GB0060
- 60 Se un treno ad alta velocità percorre 1.200 km in 240 minuti, la sua velocità media sarà:
- A** 300 km/h
 - B** 500 km/h
 - C** 240 km/h
-
- GB0061
- 61 Ai sensi dell'art. 40 del d.lgs. 165/2001, le sanzioni disciplinari nel pubblico impiego sono stabilite:
- A** dal Contratto collettivo nazionale di lavoro e dal d.lgs. 165/2001
 - B** esclusivamente dal d.lgs. 165/2001
 - C** da apposito accordo regionale con le organizzazioni sindacali di categoria maggiormente rappresentative
-
- GB0062
- 62 In base alla legge 241/1990, l'accesso ai documenti amministrativi costituisce:
- A** principio generale dell'attività amministrativa
 - B** buona prassi dell'attività amministrativa
 - C** eccezione nell'attività amministrativa
-
- GB0063
- 63 In base alla legge 18/2011 della Regione Umbria, l'Agenzia forestale regionale è titolare di poteri:
- A** espropriativi
 - B** sanzionatori
 - C** fiscali
-
- GB0064
- 64 "Non è errato non negare la non-esistenza del Destino". Quale tra le seguenti proposizioni ha significato equivalente alla precedente?
- A** Risulta corretto negare l'esistenza del Destino
 - B** Il Destino esiste
 - C** Non si può spiegare l'esistenza del Destino
-

65

Una confezione per bicchieri vuota pesa 350 g. Se al suo interno vengono inseriti 6 bicchieri del peso di 280 g ciascuno, quale sarà il peso lordo della confezione?

A 2.030 g

B 1.680 g

C 2.100 g

