



AFOR Umbria

Agenzia Forestale Regionale

**Bando di concorso pubblico per titoli ed esami
per la copertura di complessivi n. 5 posti
Cat. D a tempo pieno e indeterminato
di profili tecnici e amministrativi da impiegare
presso l'Agenda Forestale Regionale dell'Umbria**

**Istruttore direttivo tecnico agronomo Forestale
Cat. D del CCNL Funzioni Locali**

Prova 01

BA0001

1 In base al d.lgs. 34/2018, fatto salvo quanto previsto dalle normative regionali vigenti, i terreni forestali nei quali i boschi cedui hanno superato, senza interventi selvicolturali, almeno della metà il turno minimo fissato dalle norme forestali regionali, sono:

- A terreni abbandonati
- B terreni silenti
- C prati o pascoli permanenti

BA0002

2 In base al d.lgs. 34/2018, per le materie di competenza esclusiva dello Stato, fatto salvo quanto già previsto dai piani paesaggistici di cui agli articoli 143 e 156 del d.lgs. 42/2004, le aree forestali temporaneamente prive di copertura arborea e arbustiva a causa di interventi antropici, sono:

- A aree assimilate a bosco
- B aree escluse dalla definizione di bosco
- C terreni abbandonati

BA0003

3 Il d.lgs. 34/2018 impone l'obbligo di istituire elenchi o albi delle imprese che operano nel settore forestale e ambientale:

- A alle Regioni
- B alle Province
- C ai Comuni

BA0004

4 In base alla legge 28/2011 e s.m.i. della Regione Umbria, la circolazione e la sosta dei veicoli a motore nei prati:

- A è vietata, salvo specifiche eccezioni
- B è consentita, purché non arrechi danno all'ambiente
- C è sempre vietata

BA0005

5 In base alla legge 28/2011 e s.m.i. della Regione Umbria, le ditte idonee all'utilizzo di qualsiasi estensione di bosco sono iscritte nell'elenco delle ditte boschive nella fascia:

- A A
- B B
- C C

BA0006

6 In base alla legge 28/2011 e s.m.i. della Regione Umbria, avverso le sanzioni amministrative elevate ai sensi della stessa legge può essere presentato ricorso:

- A all'Ente competente per territorio
- B alla Regione
- C al Ministero dell'Agricoltura, della Sovranità Alimentare e delle Foreste

- 7 In base alla legge 12/2015 e s.m.i. della Regione Umbria, la programmazione degli interventi regionali in materia di agricoltura è definita nell'ambito del:
- A** Documento Annuale di Programmazione
 - B** Documento Annuale Strategico
 - C** Documento Annuale di Sintesi

- 8 La legge 12/2015 e s.m.i. della Regione Umbria prevede tra le sue finalità nel settore agricolo e agro-alimentare quella di:
- A** favorire il processo di allargamento della base associativa delle imprese cooperative
 - B** ridurre il numero delle imprese cooperative
 - C** aumentare il numero delle imprese cooperative

- 9 In base alla legge 12/2015 e s.m.i. della Regione Umbria, la Regione promuove il sistema delle conoscenze in agricoltura per quale delle seguenti finalità?
- A** La creazione di maggior valore aggiunto della produzione
 - B** La progressiva riduzione dei contributi pubblici al settore
 - C** La semplificazione e informatizzazione delle procedure amministrative

- 10 In base alla legge 12/2015 e s.m.i. della Regione Umbria, la Regione favorisce e promuove la salvaguardia degli agroecosistemi con la tutela delle risorse genetiche di interesse agrario:
- A** sia autoctone sia non autoctone
 - B** esclusivamente autoctone
 - C** esclusivamente non autoctone

- 11 In base al d.lgs. 152/2006, un corpo idrico sotterraneo è:
- A** un volume distinto di acque sotterranee contenute da una o più falde acquifere
 - B** uno o più strati sotterranei di roccia o altri strati geologici di porosità e permeabilità sufficiente da consentire un flusso significativo di acque sotterranee o l'estrazione di quantità significative di acque sotterranee
 - C** l'insieme degli elementi che costituiscono il sistema drenante alveato del bacino idrografico

- 12 La definizione di "danno ambientale" data dal d.lgs. 152/2006, è:
- A** qualsiasi deterioramento significativo e misurabile, diretto o indiretto, di una risorsa naturale o dell'utilità assicurata da quest'ultima
 - B** lo sfruttamento, diretto o indiretto, di una risorsa naturale, che ne pregiudichi irrimediabilmente la capacità di riproduzione
 - C** ogni compromissione dell'ambiente naturale che abbia la capacità di riflettersi in un danno per la salute umana o animale

- 13 In base al d.lgs. 42/2004, in riferimento al paesaggio, la valorizzazione del patrimonio culturale comprende la realizzazione di nuovi valori paesaggistici:
- A** coerenti e integrati
 - B** remunerativi
 - C** pittoreschi e folkloristici

- 14 In base al d.P.R. 31/2017 e s.m.i., gli interventi di contenimento della vegetazione spontanea indispensabili per la manutenzione delle infrastrutture pubbliche esistenti pertinenti al bosco, in aree vincolate, richiedono l'autorizzazione paesaggistica?
- A** No, non la richiedono
 - B** Sì, la richiedono
 - C** Sì, ma solo se l'intervento supera determinati limiti dimensionali

- 15 In base alla legge 18/2011 della Regione Umbria, con quale di queste cariche o qualità è incompatibile l'incarico di Amministratore unico dell'Agenzia forestale regionale?
- A** Presidente della Giunta regionale
 - B** Insegnante
 - C** Dipendente pubblico

- 16 In base alla legge 18/2011 della Regione Umbria, sull'operato dell'Agenzia forestale regionale la Giunta regionale svolge, tra le altre, funzioni:
- A** di vigilanza
 - B** di promozione
 - C** di rappresentanza

- 17 In base alla legge 18/2011 della Regione Umbria, quanti sono i membri effettivi del Collegio dei revisori legali dell'Agenzia forestale regionale?
- A** Tre
 - B** Quattro
 - C** Cinque

- 18 In base alla legge 18/2011 della Regione Umbria, l'Agenzia forestale regionale opera attraverso attività:
- A** a connotazione pubblica
 - B** a connotazione privata
 - C** a connotazione mista pubblica e pubblica

-
- 19 BA0019
Ai sensi del d.lgs. 50/2016, il Direttore dei lavori viene nominato:
A dalla stazione appaltante
B dal datore di lavoro del subappalto aggiudicatore
C dal coordinatore in fase di esecuzione
-
- 20 BA0020
In base al D.M. 49/2018, nel caso in cui nel corso dell'esecuzione dei lavori si verificano sinistri alle persone o danni alle proprietà, chi è tenuto a compilare una relazione nella quale si descrive il fatto?
A Il direttore dei lavori
B L'esecutore
C Il RUP
-
- 21 BA0021
In base al d.m. 49/2018, nel caso di sospensione dei lavori ai sensi dell'articolo 107 del Codice degli Appalti e dei contratti pubblici, durante il periodo di sospensione il direttore dei lavori dispone:
A visite periodiche al cantiere
B il sequestro delle opere già eseguite
C la sospensione del contratto
-
- 22 BA0022
Ai sensi dell'art. 23 del d.lgs. 50/2016, la progettazione in materia di lavori pubblici si articola secondo tre livelli di successivi approfondimenti tecnici:
A progetto di fattibilità tecnica ed economica, progetto definitivo e progetto esecutivo
B progetto preliminare, progetto definitivo e progetto esecutivo
C progetto preliminare, progetto intermedio e progetto definitivo
-
- 23 BA0023
Ai sensi dell'articolo 31, comma 4, del d.lgs. 50/2016, con riferimento al ruolo e alle funzioni del responsabile del procedimento negli appalti e nelle concessioni, quale tra le seguenti alternative NON è un compito del RUP?
A Pronunciarsi sulla localizzazione e stato dell'opera
B Curare il corretto e razionale svolgimento delle procedure
C Accertare la libera disponibilità di aree e immobili necessari
-
- 24 BA0024
Che cosa significa l'acronimo COAU, previsto dalla legge 353/2000?
A Centro operativo aereo unificato
B Centro operativo antincendio unificato
C Centro organizzativo antincendio unificato

-
- 25 **Ai sensi della legge 353/2000, quale delle seguenti affermazioni NON è corretta?** BA0025
- A** Le Regioni non possono concedere contributi a privati proprietari di aree boscate, per operazioni di pulizia e di manutenzione selvicolturale, anche se prioritariamente finalizzate alla prevenzione degli incendi boschivi
 - B** Le attività di previsione e prevenzione degli incendi boschivi vengono programmate dalle Regioni e riviste annualmente
 - C** Le Province, le comunità montane e i Comuni attuano le attività di previsione e di prevenzione secondo le attribuzioni stabilite dalle Regioni
-
- 26 **L'attività informativa rimessa alle Regioni dalla legge 353/2000 (Legge Quadro in materia di incendi boschivi) comprende:** BA0026
- A** l'informazione alla popolazione in merito alle cause determinanti l'innescio di incendio e alle norme comportamentali da rispettare in situazioni di pericolo
 - B** l'integrazione dei programmi didattici delle scuole e degli istituti di ogni ordine e grado
 - C** l'informazione statistica alle popolazioni locali in merito agli incendi dolosi
-
- 27 **Ai sensi della normativa sulla sicurezza nei luoghi di lavoro, i dispositivi di protezione individuale devono essere adeguati:** BA0027
- A** ai rischi da prevenire senza comportare di per sé un rischio maggiore
 - B** alla comodità del lavoratore, anche se non escludono completamente il rischio che devono prevenire
 - C** ai rischi da prevenire, anche se dal loro utilizzo potrebbe derivare un rischio maggiore
-
- 28 **La normativa sulla sicurezza nei luoghi di lavoro definisce "la proprietà di un agente chimico di poter produrre effetti nocivi", un:** BA0028
- A** pericolo
 - B** fattore sfavorevole
 - C** fattore innocuo
-
- 29 **Si intende "rischio di natura biologica" l'esposizione a:** BA0029
- A** agenti infettanti
 - B** polveri
 - C** agenti irritanti
-
- 30 **Secondo l'art. 25 del d.lgs 81/2008, il medico competente:** BA0030
- A** istituisce, aggiorna e custodisce, sotto la propria responsabilità, una cartella sanitaria e di rischio per ogni lavoratore
 - B** apre una cartella sanitaria alla cessazione del rapporto di lavoro di un lavoratore per definire i rischi a cui è stato sottoposto
 - C** gestisce le emergenze sanitarie di un'azienda ospedaliera
-

31 BA0031
Ai sensi della legge 241/1990, diritto di accesso si esercita nei confronti:
A delle Pubbliche Amministrazioni, delle aziende autonome e speciali, degli Enti pubblici e dei gestori di pubblici servizi
B solo delle aziende private
C solo delle aziende iscritte in un apposito albo

32 BA0032
Ai sensi della legge 241/1990, se nessuna legge o regolamento stabilisce il termine entro cui un procedimento amministrativo deve concludersi, tale termine:
A è di trenta giorni
B è di sessanta giorni
C è fissato dal TAR

33 BA0033
Il compito di definire le procedure appropriate per selezionare e formare i dipendenti destinati a operare in settori di attività particolarmente esposti alla corruzione spetta:
A al Responsabile della prevenzione della corruzione
B al Sindaco
C alla Giunta, che adotta con delibera un apposito regolamento

34 BA0034
Ai sensi del d.lgs. 33/2013, da quale soggetto è adottato il Piano Nazionale Anticorruzione?
A Dall'Autorità Nazionale Anticorruzione
B Dal Dipartimento della Funzione Pubblica
C Dal Consiglio dei Ministri

35 BA0035
A norma dell'articolo 21 del Regolamento UE 2016/679 (GdPR), l'interessato ha diritto a opporsi al trattamento dei dati personali che lo riguardano?
A Sì, in qualunque momento
B Sì, ma solo dopo 3 mesi dal consenso al trattamento che ha prestato
C Sì, ma solo dopo 15 giorni dal consenso al trattamento che ha prestato o dalla conoscenza del trattamento

36 BA0036
Ai sensi dell'art. 46 del d.P.R. 445/2000, quale dei seguenti stati, qualità personali e fatti può essere comprovato con dichiarazioni, anche contestuali all'istanza, sottoscritte dall'interessato e prodotte in sostituzione delle normali certificazioni?
A Il non aver riportato condanne penali
B Il godimento dei diritti civili ma non di quelli politici
C L'assolvimento dei generali obblighi contributivi e tributari, senza l'indicazione dell'ammontare corrisposto

-
- BA0037
- 37 **Se una Pubblica Amministrazione si trova in situazioni di eccedenza di personale, ai sensi del d.lgs. 165/2001, il dirigente responsabile è tenuto a informare preventivamente:**
- A** le rappresentanze unitarie del personale e le organizzazioni sindacali firmatarie del contratto collettivo nazionale del comparto o area
 - B** esclusivamente le organizzazioni sindacali firmatarie del contratto collettivo nazionale del comparto o area
 - C** il Ministero del Lavoro e delle Politiche Sociali
-

- BA0038
- 38 **Ai sensi del d.lgs. 165/2001, la violazione dei doveri contenuti nel Codice di comportamento dei dipendenti delle Pubbliche Amministrazioni è fonte di:**
- A** responsabilità disciplinare
 - B** responsabilità civile, nei limiti di quanto previsto dalla contrattazione collettiva
 - C** responsabilità penale solo qualora riguardi la violazione dei doveri relativi all'attuazione del Piano di prevenzione della corruzione
-

- BA0039
- 39 **Ai sensi del d.P.R. 62/2013, i dipendenti pubblici sono sottoposti a una procedura di valutazione del personale?**
- A** Sì, a opera del dirigente della struttura
 - B** Sì, a discrezionalità dei dirigenti
 - C** Sì, ma solo in circostanze eccezionali
-

- BA0040
- 40 **In base al d.P.R. 62/2013, il dipendente pubblico, all'atto dell'assegnazione all'ufficio, informa il dirigente di tutti i rapporti di collaborazione con soggetti privati in qualunque modo retribuiti che abbia avuto:**
- A** negli ultimi tre anni
 - B** negli ultimi cinque anni
 - C** negli ultimi sette anni
-

- BA0041
- 41 **"È sbagliato non ammettere che la prolungata siccità non è bastata a impedire che la vendemmia fosse abbondante". Basandosi sulla precedente affermazione, individuare quale delle seguenti alternative è necessariamente vera.**
- A** La vendemmia è stata abbondante nonostante la prolungata siccità
 - B** Bisogna ammettere che la siccità non è stata prolungata
 - C** La vendemmia è stata povera a causa della siccità
-

- BA0042
- 42 **"È necessario stare molto attenti per comprendere bene la lezione di fisica". Se la precedente affermazione è vera, allora è anche vero che:**
- A** se si è compresa bene la lezione di fisica, vuol dire che si è stati molto attenti
 - B** stando molto attenti si comprende sicuramente la lezione di fisica
 - C** se non si comprende la lezione di fisica, significa che non si è stati molto attenti
-

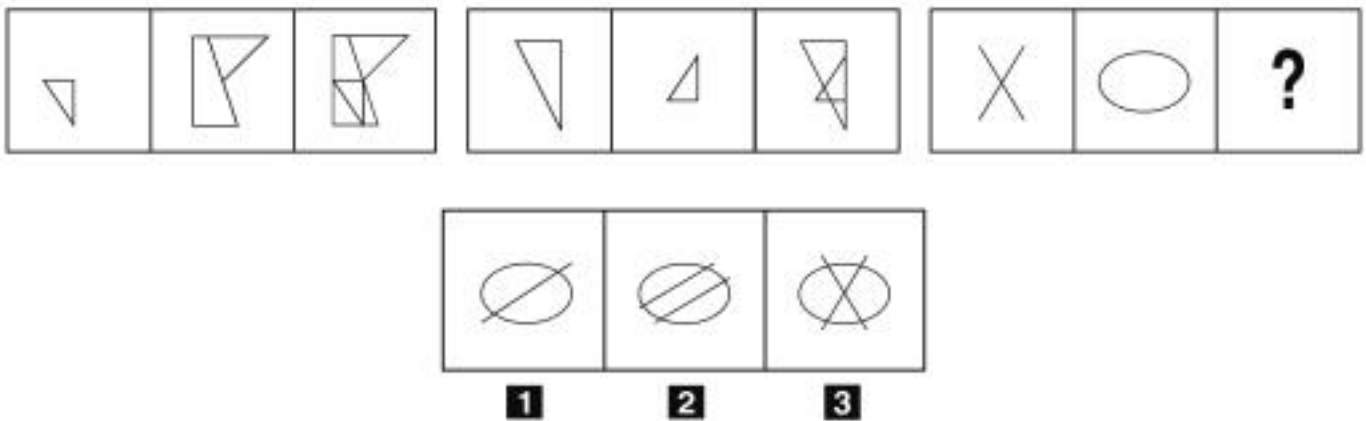
43 "Le persone presenti in questa stanza hanno tutte più di 50 anni. Santo è un astronomo del mio quartiere. Ogni astronomo del mio quartiere ha più di 50 anni". Se le precedenti informazioni sono vere, quale delle seguenti affermazioni **NON** è necessariamente vera?

- A** Santo è presente in questa stanza
- B** In questa stanza potrebbe non esserci nemmeno un astronomo
- C** Chi ha meno di 50 anni non è in questa stanza

44 Quale, tra i termini proposti, completa correttamente la seguente proporzione verbale? Idromele : bevanda = pitagorismo : X

- A** X = filosofia
- B** X = calcoli
- C** X = Pitagora


FIGURA TT 67



45 Rispondere al seguente quesito facendo riferimento alla FIGURA TT 67
Individuare la figura che completa correttamente la serie.

- A** Figura 3
- B** Figura 1
- C** Figura 2

FIGURA SS 22




46 Rispondere al seguente quesito facendo riferimento alla FIGURA SS 22
Individuare la figura che completa la serie.

BA0046

- A** Figura 3
- B** Figura 2
- C** Figura 1

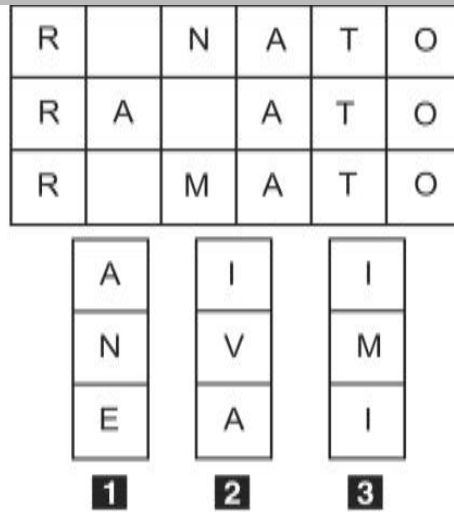
FIGURA SP 19



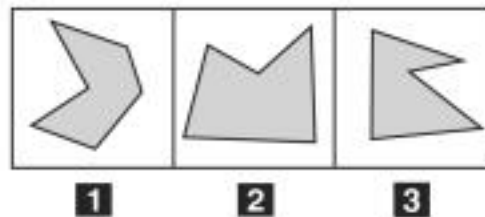
47 Rispondere al seguente quesito facendo riferimento alla FIGURA SP 19
Individuare la figura che corrisponde alla prima composizione vista allo specchio.

BA0047

- A** Figura 3
- B** Figura 2
- C** Figura 1

FIGURA TZ 84

- 48 Rispondere al seguente quesito facendo riferimento alla FIGURA TZ 84 BA0048
- Quale dei tre tasselli proposti contiene le lettere mancanti che permettono di formare tre parole di senso compiuto?
- A** Il tassello 3
 - B** Il tassello 2
 - C** Il tassello 1

FIGURA TU 21

- 49 Rispondere al seguente quesito facendo riferimento alla FIGURA TU 21 BA0049
- Individuare la figura da scartare.
- A** Figura 1
 - B** Figura 2
 - C** Figura 3

DIAGRAMMA RY 00

Individuare la relazione insiemistica esistente tra i termini dati.



DIAGRAMMA 1



DIAGRAMMA 2



DIAGRAMMA 3



DIAGRAMMA 4

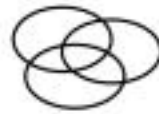


DIAGRAMMA 5



DIAGRAMMA 6

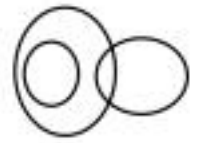
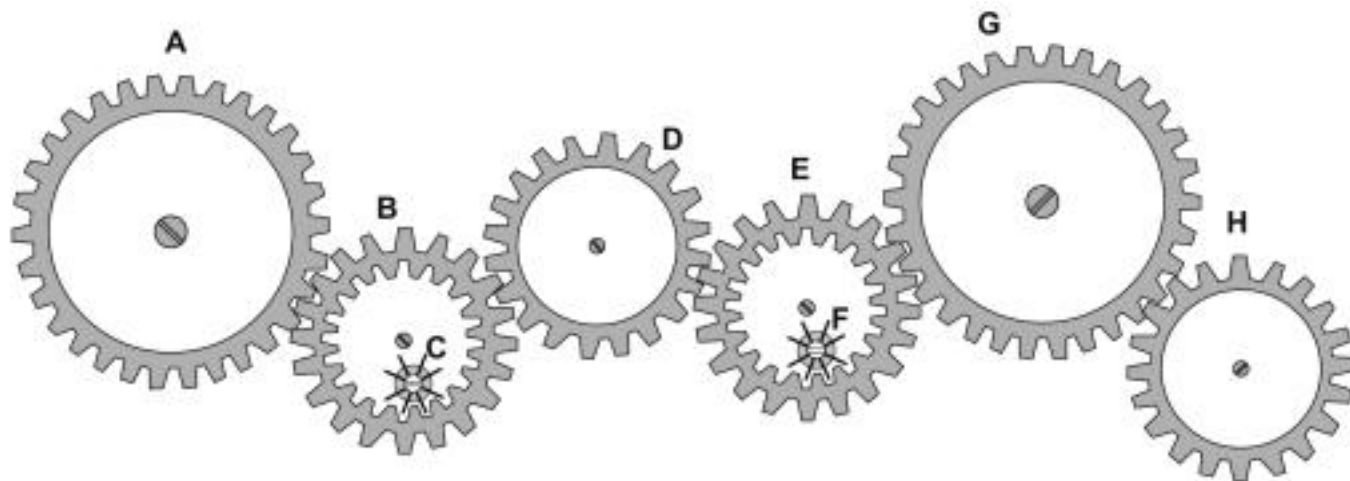


DIAGRAMMA 7

- 50 Rispondere al seguente quesito facendo riferimento al **DIAGRAMMA RY 00** BA0050
Fiori, Papaveri, Papere
A Diagramma 2
B Diagramma 3
C Diagramma 6
-
- 51 BA0051
Da un sacchetto contenente 20 biglie rosse, 15 gialle, 10 bianche e 5 verdi si estrae una biglia a caso. Si ha la probabilità di $\frac{1}{2}$ che essa non sia di colore rosso né:
A verde
B bianco
C verde, né bianco
-
- 52 BA0052
Una società che inizialmente fatturava 500 milioni di euro ha visto calare del 70% il fatturato nel primo anno, del 60% nel secondo e del 10% nel terzo. Qual è il suo fatturato alla fine del terzo anno?
A 54 milioni di euro
B 108 milioni di euro
C 446 milioni di euro
-
- 53 BA0053
Una latteria utilizza dei vasetti in vetro per confezionare speciali formaggi spalmabili. Se il peso lordo di un barattolo è pari a 400 g e il vasetto pesa 120 g, calcolare il peso netto del formaggio in grammi.
A 280
B 520
C 380
-
- 54 BA0054
Se un pattinatore si muove a una velocità media di 24 km/h, dopo 3 ore avrà percorso:
A 72 km
B 48 km
C 67 km

FIGURA UY 27

Nel sistema raffigurato, le ruote dentate sono libere di ruotare attorno a un perno fisso.



- 55 Rispondere al seguente quesito facendo riferimento alla FIGURA UY 27 BA0055
Se la ruota dentata E ruota in senso orario, in quale senso gira la ruota dentata G?
A In senso inverso rispetto alla ruota dentata H
B In senso orario
C Nello stesso senso della ruota dentata H
- 56 Se la sveglia di Luca segna sul display le 20.30 di lunedì, tra 44 ore e 45 minuti saranno: BA0056
A le 17.15 di mercoledì
B le 13.15 di mercoledì
C le 5.15 di giovedì
- 57 In un ipotetico linguaggio in codice, alla parola AIUTARE corrisponde il codice ATAITIUTUTATARETE e alla parola LIEVE corrisponde il codice LITIEVEVETE. Come si scriverà, nel medesimo codice, la parola COPIA? BA0057
A COTOPITIATA
B COTOPTITATA
C COTOPITITATA
- 58 La somma delle cifre di quale numero è uguale a 20? BA0058
A 596
B 745
C 985
- 59 Utilizzando l'alfabeto italiano, completare correttamente la seguente successione di lettere: A; T; Q; O; I; F; ? BA0059
A D
B M
C A

-
- 60 BA0060
Se:
 $BY - 10 + MK = TZ - 2$
 $BY = 4 + TZ$
allora MK è uguale a:
A 4
B -4
C 8
-
- 61 BA0061
In base al d.lgs. 34/2018, se è stata chiesta l'autorizzazione alla trasformazione del bosco, chi deve presentare il progetto delle opere o dei servizi compensativi?
A Il richiedente la trasformazione
B La Regione
C Il Comune o i Comuni dell'area interessata
-
- 62 BA0062
In base alla legge 18/2011 della Regione Umbria, quale dei seguenti compiti NON è attribuito all'Agenzia forestale regionale?
A Disboscamento
B Imboschimento
C Rimboschimento
-
- 63 BA0063
Rientra/rientrano nella fase istruttoria del procedimento amministrativo:
A l'accertamento d'ufficio dei fatti da parte del responsabile del procedimento
B gli accordi sostitutivi
C la richiesta e la proposta vincolante
-
- 64 BA0064
Se tutti i clienti presenti nella cartoleria possono comprare contemporaneamente almeno uno dei quindici quaderni presenti, allora si può dedurre con certezza che i clienti presenti nella cartoleria sono:
A al massimo quindici
B almeno quindici
C esattamente quindici
-
- 65 BA0065
Completare correttamente la seguente successione numerica: ?; ?; 24; 49; 29; 52; 34; 55
A 19; 46
B 21; 44
C 46; 19

