



AFOR Umbria

Agenzia Forestale Regionale

**Bando di concorso pubblico per titoli ed esami
per la copertura di complessivi n. 5 posti
Cat. D a tempo pieno e indeterminato
di profili tecnici e amministrativi da impiegare
presso l'Agenzia Forestale Regionale dell'Umbria**

**=glfi hfcY'X]fYHj] c'hYVb]Wc'U] fcbca c': cfYghU'Y'
7 Uh'r8 'XY'77 B@: i bn]cb]'@WU]**

Prova 02

BB0001

- 1 In base al d.lgs. 34/2018, fatto salvo quanto previsto dalle normative regionali vigenti, i boschi d'alto fusto in cui non siano stati attuati interventi di sfollo o diradamento negli ultimi venti anni, sono:
- A terreni abbandonati
 - B terreni silenti
 - C prati o pascoli permanenti

BB0002

- 2 In base al d.lgs. 34/2018, per le materie di competenza esclusiva dello Stato, fatto salvo quanto già previsto dai piani paesaggistici di cui agli articoli 143 e 156 del d.lgs. 42/2004, le aree forestali temporaneamente prive di copertura arborea e arbustiva a causa di incendi, sono:
- A aree assimilate a bosco
 - B aree escluse dalla definizione di bosco
 - C terreni silenti

BB0003

- 3 Il d.lgs. 34/2018 pone l'obbligo di istituire elenchi o albi delle imprese che operano nel settore delle sistemazioni idraulico-forestali:
- A alle Regioni
 - B alle Province
 - C ai Comuni

BB0004

- 4 In base alla legge 28/2011 e s.m.i. della Regione Umbria, la circolazione e la sosta dei veicoli a motore nei pascoli:
- A è vietata, salvo specifiche eccezioni
 - B è consentita, purché non arrechi danno all'ambiente
 - C è sempre vietata

BB0005

- 5 In base alla legge 28/2011 e s.m.i. della Regione Umbria, le ditte idonee all'utilizzo di superfici inferiori a dieci ettari per singola proprietà sono iscritte nell'elenco delle ditte boschive nella fascia:
- A B
 - B A
 - C C

BB0006

- 6 In base alla legge 28/2011 e s.m.i. della Regione Umbria, per l'esame dei ricorsi presentati avverso le sanzioni amministrative elevate ai sensi della stessa legge, l'Ente competente per territorio:
- A si avvale della Commissione per il contenzioso forestale
 - B si avvale dei Carabinieri forestali
 - C si avvale del Ministero dell'Agricoltura, della Sovranità Alimentare e delle Foreste

-
- BB0007**
- 7** In base alla legge 12/2015 e s.m.i. della Regione Umbria, la definizione delle risorse finanziarie relative agli interventi regionali in materia di agricoltura è definita nell'ambito:
- A** del Documento Annuale di Programmazione
 - B** del Documento Annuale Strategico
 - C** del Documento Annuale di Sintesi
-
- BB0008**
- 8** La legge 12/2015 e s.m.i. della Regione Umbria prevede tra le sue finalità nel settore agricolo e agro-alimentare quella di:
- A** favorire il processo di allargamento del capitale sociale delle imprese cooperative
 - B** favorire il ricorso al credito da parte delle imprese cooperative
 - C** sfavorire il ricorso al credito da parte delle imprese cooperative
-
- BB0009**
- 9** In base alla legge 12/2015 e s.m.i. della Regione Umbria, la Regione promuove il sistema delle conoscenze in agricoltura per quale di queste finalità?
- A** Il miglioramento della competitività delle imprese agricole
 - B** Il contrasto al latifondo
 - C** La riduzione del consumo di suolo
-
- BB0010**
- 10** In base alla legge 12/2015 e s.m.i. della Regione Umbria, la Regione favorisce e promuove la salvaguardia degli agroecosistemi con la tutela delle risorse genetiche di interesse agrario non autoctone, purché, tra l'altro:
- A** introdotte nel territorio regionale da almeno 50 anni
 - B** introdotte nel territorio regionale da almeno 100 anni
 - C** introdotte nel territorio regionale da almeno 70 anni
-
- BB0011**
- 11** In base al d.lgs. 152/2006, l'insieme degli elementi che costituiscono il sistema drenante alveato del bacino idrografico è:
- A** un reticolo idrografico
 - B** una falda acquifera
 - C** un distretto idrografico
-
- BB0012**
- 12** In base al d.lgs. 152/2006, il deterioramento, in confronto alle condizioni originarie, provocato alle specie e agli habitat naturali protetti dalla normativa nazionale e comunitaria di cui alla legge 157/1992, costituisce:
- A** danno ambientale
 - B** danno all'ecosistema
 - C** danno naturale

- 13 In base al d.lgs. 42/2004, in riferimento al paesaggio, la valorizzazione del patrimonio culturale comprende la riqualificazione delle aree sottoposte a tutela:
- A** compromesse o degradate
 - B** non redditizie
 - C** sottoutilizzate

- 14 In base al d.P.R. 31/2017 e s.m.i., le pratiche selvicolturali autorizzate in base alla normativa di settore, in aree vincolate, richiedono l'autorizzazione paesaggistica?
- A** No, non la richiedono
 - B** Sì, la richiedono
 - C** È discrezione della Regione imporne la richiesta

- 15 In base alla legge 18/2011 della Regione Umbria, con quale di queste cariche o qualità è incompatibile l'incarico di Amministratore unico dell'Agenzia forestale regionale?
- A** Assessore regionale
 - B** Ministro di culto
 - C** Dipendente pubblico

- 16 In base alla legge 18/2011 della Regione Umbria, sull'operato dell'Agenzia forestale regionale la Giunta regionale svolge, tra le altre, funzioni di:
- A** controllo
 - B** direzione
 - C** consulenza

- 17 In base alla legge 18/2011 della Regione Umbria, i membri effettivi del Collegio dei revisori legali dell'Agenzia forestale regionale devono essere iscritti al registro dei revisori legali?
- A** Sì, devono
 - B** Almeno uno
 - C** Non necessariamente

- 18 In base alla legge 18/2011 della Regione Umbria, l'Agenzia forestale regionale opera attraverso servizi:
- A** a connotazione pubblica
 - B** a connotazione privata
 - C** a connotazione mista pubblica e pubblica

-
- 19 **BB0019**
Ai sensi del d.lgs. 50/2016 il collaudo finale nell'ambito degli appalti di lavori pubblici:
- A** deve essere effettuato non oltre 6 mesi dall'ultimazione dei lavori, salvo i casi di particolare complessità delle opere in cui il termine è prorogato sino a un anno
 - B** deve essere effettuato entro 15 giorni dalla fine dei lavori
 - C** può essere effettuato non prima di 6 mesi dalla fine dei lavori, salvo i casi di particolare complessità delle opere in cui il termine è prorogato sino a 3 anni
-
- 20 **BB0020**
In base al D.M. 49/2018, nel caso in cui nel corso dell'esecuzione dei lavori si verificano sinistri, l'esecutore può pretendere indennizzi per danni alle opere o provviste?
- A** Solo in caso fortuito o di forza maggiore e nei limiti consentiti nel contratto
 - B** Sì, sempre
 - C** No, mai
-
- 21 **BB0021**
In base al D.M. 49/2018, nel caso di sospensione dei lavori ai sensi dell'articolo 107 del Codice degli appalti e dei contratti pubblici, chi dispone visite periodiche al cantiere durante il periodo di sospensione per accertare le condizioni delle opere?
- A** Il direttore dei lavori
 - B** L'esecutore
 - C** Il RUP
-
- 22 **BB0022**
La stazione appaltante, nei contratti relativi ai lavori, verifica la rispondenza degli elaborati progettuali ai documenti di cui all'articolo 23 del d.lgs. 50/2016, nonché la loro conformità alla normativa vigente:
- A** prima dell'inizio delle procedure di affidamento
 - B** prima della stipula del contratto di appalto
 - C** prima dell'inizio dei lavori
-
- 23 **BB0023**
Nel campo di applicazione del d.lgs 50/2016, il responsabile dei Lavori è:
- A** il responsabile unico del procedimento
 - B** il direttore dei lavori
 - C** il dirigente dell'area tecnica
-
- 24 **BB0024**
Ai sensi della legge 353/2000, le zone boscate e i pascoli i cui soprassuoli siano stati percorsi dal fuoco non possono avere una destinazione diversa da quella preesistente all'incendio per almeno:
- A** quindici anni
 - B** dieci anni
 - C** cinque anni

-
- 25 **BB0025**
Ai sensi della legge 353/2000, le sale operative unificate permanenti (SUOP) vengono istituite:
- A** dalle Regioni
 - B** dalla Protezione civile
 - C** dal Corpo nazionale dei Vigili del fuoco
-
- 26 **BB0026**
In base all'art. 3 della legge 353/2000, il piano regionale di previsione, prevenzione e lotta attiva contro gli incendi boschivi individua tutti i seguenti, TRANNE:
- A** i tempi, i modi, i luoghi in cui possono svilupparsi gli eventi
 - B** le aree percorse dal fuoco nell'anno precedente, rappresentate con apposita cartografia
 - C** gli indici di pericolosità fissati su base quantitativa e sinottica
-
- 27 **BB0027**
Secondo la normativa in vigore, i dipendenti possono, di loro iniziativa, apportare modifiche ai dispositivi di protezione individuale messi a loro disposizione?
- A** No, mai
 - B** Sì, sempre
 - C** Solamente il responsabile per la sicurezza ha questa facoltà
-
- 28 **BB0028**
Secondo la normativa sulla sicurezza nei luoghi di lavoro il "rischio", in relazione all'esposizione ad agenti chimici, è:
- A** la probabilità che si raggiunga il potenziale nocivo nelle condizioni di utilizzazione o esposizione a tali agenti
 - B** il danno che può causare una sostanza in caso di incendio o incidente
 - C** il danno che può causare una sostanza chimica erroneamente dispersa nell'ambiente o non smaltita
-
- 29 **BB0029**
In base al d.lgs. 81/2008, che cosa si intende per "apprestamenti"?
- A** Le opere provvisorie necessarie ai fini della tutela della salute e della sicurezza dei lavoratori in cantiere
 - B** Qualsiasi macchina, apparecchio, utensile o impianto destinato a essere usato durante il lavoro
 - C** L'insieme di scelte effettuate dal progettista dell'opera, in collaborazione con il coordinatore per la progettazione, al fine di garantire l'eliminazione o la riduzione al minimo dei rischi di lavoro
-
- 30 **BB0030**
In base al d.lgs. 81/2008, Testo Unico in materia di tutela della salute e sicurezza nei luoghi di lavoro, nei cantieri temporanei quale tra i seguenti NON è un obbligo specifico del coordinatore per l'esecuzione dei lavori?
- A** Redigere il piano di sicurezza e di coordinamento
 - B** Adeguare il piano di sicurezza e di coordinamento in relazione all'evoluzione dei lavori e alle eventuali modifiche intervenute
 - C** Sospendere, in caso di pericolo grave e imminente, direttamente riscontrato, le singole lavorazioni fino alla verifica degli avvenuti adeguamenti effettuati dalle imprese interessate
-

31 BB0031
In ambito amministrativo, ai sensi della legge 241/1990, la riservatezza costituisce un limite all'accesso?
A Può costituirlo, ma l'accesso è garantito qualora necessario per curare o difendere gli interessi giuridici dei richiedenti
B Sì, in ogni caso, in quanto avente rilievo costituzionale
C No, mai

32 BB0032
Secondo la legge 241/1990, quale delle seguenti affermazioni riguardanti gli atti amministrativi a contenuto generale è corretta?
A Non devono essere motivati
B Devono essere motivati con l'indicazione dei presupposti di fatto e di diritto
C Sono soggetti all'obbligo generale di motivazione

33 BB0033
L'Organo di indirizzo della Pubblica Amministrazione deve adottare il Piano triennale per la prevenzione della corruzione entro:
A il 31 gennaio di ogni anno
B il 31 dicembre di ogni anno
C il 30 giugno di ogni anno

34 BB0034
A norma del d.lgs. 33/2013, chi può precisare, tramite il Piano nazionale anticorruzione, gli obblighi di pubblicazione e le relative modalità di attuazione, a cui sono tenute le Pubbliche Amministrazioni?
A L'Autorità nazionale anticorruzione
B Il Ministro della Giustizia
C Il Consiglio nazionale dell'economia e del lavoro

35 BB0035
In base al Regolamento (UE) 2016/679, il cosiddetto "diritto di opposizione" al trattamento dei dati personali che lo riguardano:
A può essere esercitato in qualunque momento dall'interessato, per motivi connessi alla sua situazione particolare
B non si applica nel caso dell'interessato i cui dati personali siano stati trattati per finalità di marketing diretto
C può essere esercitato in qualunque momento dall'interessato, a prescindere da motivi connessi alla sua situazione particolare

36 BB0036
Secondo l'articolo 46 del d.P.R. 445/2000, quale dei seguenti elementi NON può essere comprovato dall'interessato con dichiarazione dallo stesso sottoscritta?
A Lo stato di salute fisica, con riferimento allo svolgimento di attività sportive professionistiche
B Qualità di pensionato e categoria di pensione
C Qualità di studente

-
- BB0037
- 37 **Il d.lgs. 165/2001, all'articolo 35, comma 2, prevede limitazioni per le assunzioni da parte di Pubbliche Amministrazioni per lavoratori appartenenti alle cosiddette "categorie protette"?**
- A** Sì, la previa verifica della compatibilità della invalidità del lavoratore con le mansioni da svolgere
 - B** Sì, la previa verifica della normativa regionale applicabile nel rispetto del decentramento delle procedure di reclutamento
 - C** No, sebbene sia necessario il parere del Centro per l'impiego di riferimento
-
- BB0038
- 38 **A norma del d.lgs. 165/2001 e s.m.i., l'inosservanza degli obblighi di trasmissione per via telematica della certificazione medica concernente le assenze di lavoratori per malattia costituisce illecito disciplinare?**
- A** Sì, sempre
 - B** In caso di reiterazione
 - C** No
-
- BB0039
- 39 **In base al d.P.R. 62/2013, chi tra i seguenti vigila sull'applicazione dello stesso?**
- A** I dirigenti responsabili di ciascuna struttura
 - B** Ogni pubblico dipendente
 - C** L'ufficio procedimenti disciplinari
-
- BB0040
- 40 **In base all'art. 6 del d.P.R. 62/2013, il dipendente pubblico che versi in situazioni di conflitto di interessi con interessi personali:**
- A** si astiene dal prendere decisioni o svolgere attività inerenti alle sue mansioni
 - B** si astiene dal prendere decisioni, ma può svolgere attività inerenti alle sue mansioni
 - C** può svolgere attività inerenti alle sue mansioni, purché meramente esecutive
-
- BB0041
- 41 **In base ai risultati del sondaggio, il giornale ha affermato che non è falsa la tesi secondo cui molti italiani non andranno in vacanza. Basandosi sulla precedente affermazione, quale delle seguenti alternative è vera?**
- A** Molti italiani non andranno in vacanza, in base ai risultati del sondaggio
 - B** Molti italiani andranno in vacanza, in base ai risultati del sondaggio
 - C** I risultati del sondaggio non sono attendibili
-
- BB0042
- 42 **"Il merluzzo può essere cucinato solo dopo il suo scongelamento". Se la precedente informazione è corretta, quale delle seguenti affermazioni NON rappresenta una conclusione corretta?**
- A** Se il merluzzo non è stato cucinato allora non è stato scongelato
 - B** Solo se il merluzzo è stato scongelato allora può essere cucinato
 - C** Se il merluzzo non è stato scongelato allora non può essere cucinato
-

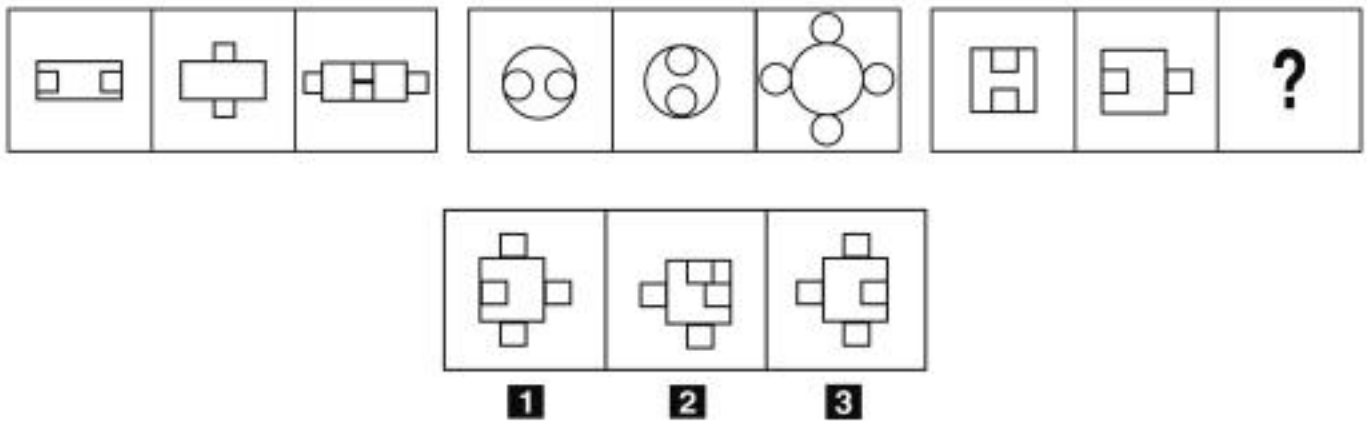
43 "Le persone presenti in questa stanza hanno tutte più di 23 anni. Fedele è un ricercatore del mio quartiere. Ogni ricercatore del mio quartiere ha più di 23 anni". Se le precedenti informazioni sono vere, quale delle seguenti affermazioni **NON** è necessariamente vera?

- A** Fedele è presente in questa stanza
- B** In questa stanza potrebbe non esserci nemmeno un ricercatore
- C** Chi ha meno di 23 anni non è in questa stanza

44 Quale, tra i termini proposti, completa correttamente la seguente proporzione verbale? Ocra : X = tulipano : fiore

- A** X = colore
- B** X = castano
- C** X = castagno

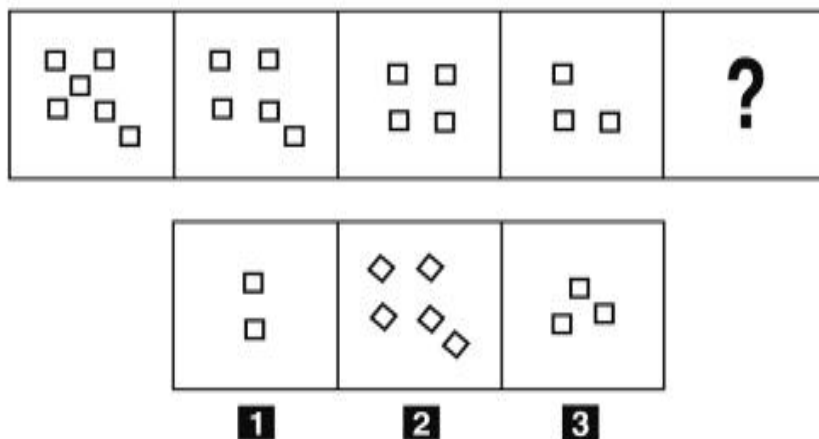
FIGURA SU 44



45 Rispondere al seguente quesito facendo riferimento alla FIGURA SU 44
Individuare la figura mancante.

- A** Figura 3
- B** Figura 2
- C** Figura 1

FIGURA ST 34

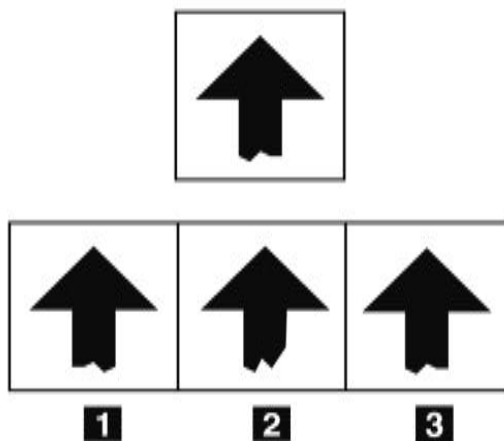


46 Rispondere al seguente quesito facendo riferimento alla FIGURA ST 34
 Individuare la figura che completa la serie.

BB0046

- A** Figura 1
- B** Figura 2
- C** Figura 3

FIGURA SN 80



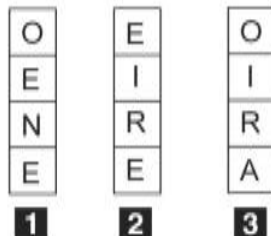
47 Rispondere al seguente quesito facendo riferimento alla FIGURA SN 80
 Individuare la figura che corrisponde alla prima composizione vista allo specchio.

BB0047

- A** Figura 1
- B** Figura 3
- C** Figura 2

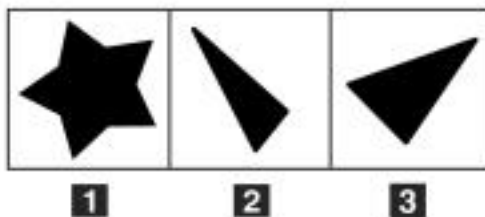
FIGURA TN 26

	R	S	O
L		M	A
T	O		O
C	A	S	



- 48 Rispondere al seguente quesito facendo riferimento alla FIGURA TN 26 BB0048
- Quale tassello contiene, nell'ordine, le lettere necessarie per dare un senso compiuto a tutte le parole?
- A** 3
B 2
C 1

FIGURA UR 97



- 49 Rispondere al seguente quesito facendo riferimento alla FIGURA UR 97 BB0049
- Individuare la figura da scartare.
- A** Figura 1
B Figura 2
C Figura 3

DIAGRAMMA RY 00

Individuare la relazione insiemistica esistente tra i termini dati.



DIAGRAMMA 1



DIAGRAMMA 2



DIAGRAMMA 3



DIAGRAMMA 4



DIAGRAMMA 5



DIAGRAMMA 6

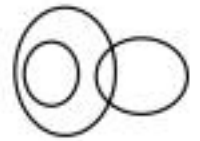
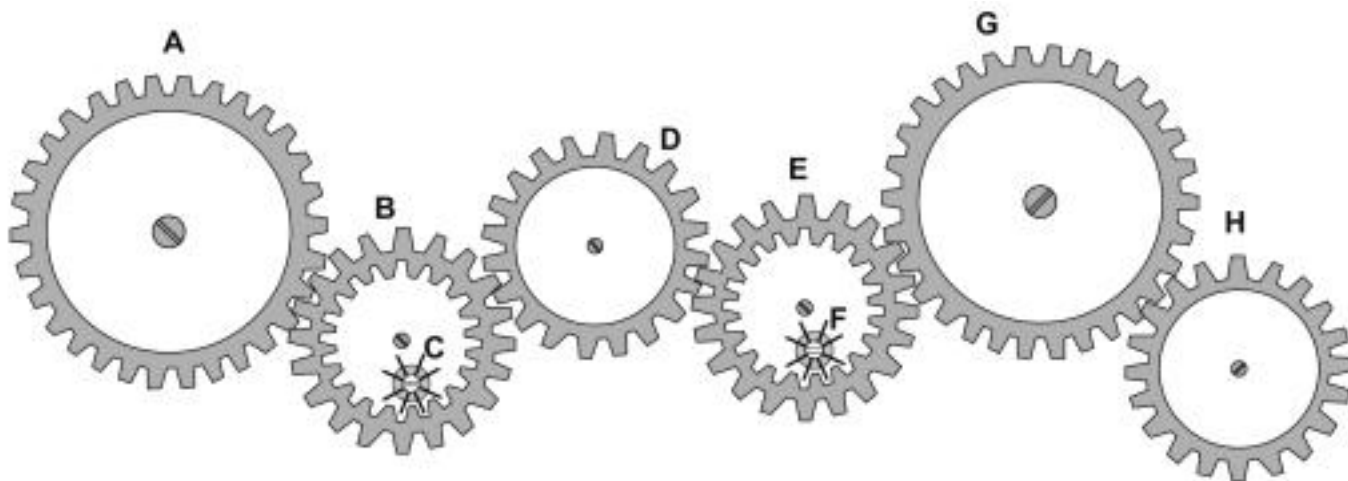


DIAGRAMMA 7

- 50 Rispondere al seguente quesito facendo riferimento al DIAGRAMMA RY 00 BB0050
Persone magre, Persone sportive, Palestre
A Diagramma 1
B Diagramma 2
C Diagramma 3
-
- 51 BB0051
In una popolazione campione, il 25% degli intervistati mangia carne ogni giorno e il 15% mangia pasta tutti i giorni. Il 10% degli intervistati che ha dichiarato di mangiare carne o pasta tutti i giorni, mangia sia carne che pasta ogni giorno. Scegliendo a caso un individuo, che probabilità c'è che mangi ogni giorno sia pasta sia carne?
A 1/25
B 1/50
C 1/5
-
- 52 BB0052
Una società che inizialmente fatturava 700 milioni di euro ha visto calare del 50% il fatturato nel primo anno, del 40% nel secondo e del 80% nel terzo. Qual è il suo fatturato alla fine del terzo anno?
A 42 milioni di euro
B 84 milioni di euro
C 658 milioni di euro
-
- 53 BB0053
Una latteria utilizza dei vasetti in vetro per confezionare il suo yogurt. Se il peso lordo di un barattolo è pari a 400 g e il vasetto pesa 140 g, calcolare il peso netto dello yogurt in grammi.
A 260
B 540
C 420
-
- 54 BB0054
Se un TIR viaggia a una velocità media di 90 km/h, dopo 3 ore avrà percorso:
A 270 km
B 180 km
C 240 km

FIGURA UY 27

Nel sistema raffigurato, le ruote dentate sono libere di ruotare attorno a un perno fisso.



- 55 Rispondere al seguente quesito facendo riferimento alla FIGURA UY 27 BB0055
Se la ruota dentata D ruota in senso orario, in quale senso gira la ruota dentata F?
A In senso inverso rispetto alla ruota dentata G
B In senso orario
C Nello stesso senso della ruota dentata G
- 56 BB0056
Se la sveglia di Lisa segna sul display le 9.45 di martedì, tra 52 ore e 30 minuti saranno:
A le 14.15 di giovedì
B le 13.15 di giovedì
C le 2.15 di venerdì
- 57 BB0057
In un ipotetico linguaggio in codice, al codice LESESOSO corrisponde la parola LESO e al codice PSICOSOFISISISICASA corrisponde la parola PSICOFISICA. Quale sarà la parola corrispondente al codice PRESESSOSO?
A PRESSO
B PRESO
C PRESTO
- 58 BB0058
La somma delle cifre di quale numero è uguale a 22?
A 859
B 869
C 786
- 59 BB0059
Completare correttamente la seguente successione di lettere, utilizzando l'alfabeto italiano: G; M; Q; U; B; ?; L; P
A F
B H
C E

60

Se:

$$\# + \# = \zeta - \xi$$

$$\zeta = 11$$

$$\# = 7$$

allora ξ è uguale a:

A -3

B -9

C 9

61

In base al d.lgs. 34/2018, se è stata chiesta l'autorizzazione alla trasformazione del bosco, chi deve presentare il progetto delle opere o dei servizi compensativi?

A Il richiedente la trasformazione

B La Regione

C Il Comune o i Comuni dell'area interessata

62

In base alla legge 18/2011 della Regione Umbria, quale dei seguenti compiti NON è attribuito all'Agenzia forestale regionale?

A Disboscamento

B Imboschimento

C Rimboschimento

63

Rientra/rientrano nella fase istruttoria del procedimento amministrativo:

A l'accertamento d'ufficio dei fatti da parte del responsabile del procedimento

B gli accordi sostitutivi

C la richiesta e la proposta vincolante

64

Se tutti i clienti presenti nella cartoleria possono comprare contemporaneamente almeno uno dei quindici quaderni presenti, allora si può dedurre con certezza che i clienti presenti nella cartoleria sono:

A al massimo quindici

B almeno quindici

C esattamente quindici

65

Completare correttamente la seguente successione numerica: ?; ?; 24; 49; 29; 52; 34; 55

A 19; 46

B 21; 44

C 46; 19

