



# AFOR Umbria

Agenzia Forestale Regionale

**Bando di concorso pubblico per titoli ed esami  
per la copertura di complessivi n. 5 posti  
Cat. D a tempo pieno e indeterminato  
di profili tecnici e amministrativi da impiegare  
presso l'Agenzia Forestale Regionale dell'Umbria**

**Per informazioni e richieste di chiarimenti,  
contattare l'Ufficio Amministrativo  
presso l'Agenzia Forestale Regionale dell'Umbria  
via Salaria 100, 00198 Roma, Tel. 06/4980111**

**Prova 03**

BC0001

1 In base al d.lgs. 34/2018, fatto salvo quanto previsto dalle normative regionali vigenti, i terreni forestali nei quali i boschi cedui hanno superato, senza interventi selvicolturali, almeno della metà il turno minimo fissato dalle norme forestali regionali, sono:

- A terreni abbandonati
- B terreni silenti
- C prati o pascoli permanenti

BC0002

2 In base al d.lgs. 34/2018, in luogo dell'esecuzione diretta degli interventi compensativi, le Regioni possono prevedere, relativamente agli interventi di trasformazione del bosco che non determinino un danno o un danno ambientale ai sensi della direttiva 2004/35/CE, che il soggetto autorizzato versi in uno specifico fondo forestale regionale una quota:

- A almeno corrispondente all'importo stimato dell'opera o al servizio compensativo previsto
- B almeno corrispondente all'importo dell'opera realizzata con la trasformazione
- C forfettaria

BC0003

3 Il d.lgs. 34/2018 impone l'obbligo di istituire elenchi o albi delle imprese che operano nel settore forestale e ambientale:

- A alle Regioni
- B alle Province
- C ai Comuni

BC0004

4 In base alla legge 28/2011 e s.m.i. della Regione Umbria, la circolazione e la sosta dei veicoli a motore nei pascoli:

- A è vietata, salvo specifiche eccezioni
- B è consentita, purché non arrechi danno all'ambiente
- C è sempre vietata

BC0005

5 In base alla legge 28/2011 e s.m.i. della Regione Umbria, gli alberi delle specie arboree sottoposte a tutela, non ricadenti nei boschi ai sensi dell'art. 5 della stessa legge, sono censiti dall'Ente competente per territorio quando presentano una delle seguenti peculiarità. Quale?

- A Sono parte essenziale e peculiare di un complesso paesaggistico tradizionale
- B Hanno più di cento anni
- C Non sono autoctoni

BC0006

6 In base alla legge 28/2011 e s.m.i. della Regione Umbria, per l'esame dei ricorsi presentati avverso le sanzioni amministrative elevate ai sensi della stessa legge, l'Ente competente per territorio:

- A si avvale della Commissione per il contenzioso forestale
- B si avvale dei Carabinieri forestali
- C si avvale del Ministero dell'Agricoltura, della Sovranità Alimentare e delle Foreste

- 7 In base alla legge 12/2015 e s.m.i. della Regione Umbria, la programmazione degli interventi regionali in materia di agricoltura è definita nell'ambito del:
- A** Documento Annuale di Programmazione
  - B** Documento Annuale Strategico
  - C** Documento Annuale di Sintesi

- 8 La legge 12/2015 e s.m.i. della Regione Umbria prevede tra le sue finalità nel settore agricolo e agro-alimentare quella di:
- A** favorire il processo di allargamento della base associativa delle imprese cooperative
  - B** ridurre il numero delle imprese cooperative
  - C** aumentare il numero delle imprese cooperative

- 9 In base alla legge 12/2015 e s.m.i. della Regione Umbria, la Regione promuove il sistema delle conoscenze in agricoltura per quale delle seguenti finalità?
- A** La creazione di maggior valore aggiunto della produzione
  - B** La progressiva riduzione dei contributi pubblici al settore
  - C** La semplificazione e informatizzazione delle procedure amministrative

- 10 In base alla legge 12/2015 e s.m.i. della Regione Umbria, la Regione favorisce e promuove la salvaguardia degli agroecosistemi con la tutela delle risorse genetiche di interesse agrario:
- A** sia autoctone sia non autoctone
  - B** esclusivamente autoctone
  - C** esclusivamente non autoctone

- 11 In base al d.lgs. 152/2006, l'insieme degli elementi che costituiscono il sistema drenante alveato del bacino idrografico è:
- A** un reticolo idrografico
  - B** una falda acquifera
  - C** un distretto idrografico

- 12 In base al d.lgs. 152/2006, il deterioramento, in confronto alle condizioni originarie, provocato alle specie e agli habitat naturali protetti dalla normativa nazionale e comunitaria di cui alla legge 157/1992, costituisce:
- A** danno ambientale
  - B** danno all'ecosistema
  - C** danno naturale

- 13 In base al d.lgs. 42/2004, in riferimento al paesaggio, la valorizzazione del patrimonio culturale comprende la riqualificazione delle aree sottoposte a tutela:
- A** compromesse o degradate
  - B** non redditizie
  - C** sottoutilizzate

- 14 In base al d.P.R. 31/2017 e s.m.i., le pratiche selvicolturali autorizzate in base alla normativa di settore, in aree vincolate, richiedono l'autorizzazione paesaggistica?
- A** No, non la richiedono
  - B** Sì, la richiedono
  - C** È discrezione della Regione imporne la richiesta

- 15 In base alla legge 18/2011 della Regione Umbria, con quale di queste cariche o qualità è incompatibile l'incarico di Amministratore unico dell'Agenzia forestale regionale?
- A** Presidente della Giunta regionale
  - B** Insegnante
  - C** Dipendente pubblico

- 16 In base alla legge 18/2011 della Regione Umbria, sull'operato dell'Agenzia forestale regionale la Giunta regionale svolge, tra le altre, funzioni:
- A** di vigilanza
  - B** di promozione
  - C** di rappresentanza

- 17 In base alla legge 18/2011 della Regione Umbria, quanti sono i membri effettivi del Collegio dei revisori legali dell'Agenzia forestale regionale?
- A** Tre
  - B** Quattro
  - C** Cinque

- 18 In base alla legge 18/2011 della Regione Umbria, l'Agenzia forestale regionale opera attraverso attività:
- A** a connotazione pubblica
  - B** a connotazione privata
  - C** a connotazione mista pubblica e pubblica

- 
- 19 **Ai sensi del d.lgs. 50/2016 il collaudo finale nell'ambito degli appalti di lavori pubblici:** BC0019
- A** deve essere effettuato non oltre 6 mesi dall'ultimazione dei lavori, salvo i casi di particolare complessità delle opere in cui il termine è prorogato sino a un anno
  - B** deve essere effettuato entro 15 giorni dalla fine dei lavori
  - C** può essere effettuato non prima di 6 mesi dalla fine dei lavori, salvo i casi di particolare complessità delle opere in cui il termine è prorogato sino a 3 anni

- 
- 20 **In base al D.M. 49/2018, nel caso in cui nel corso dell'esecuzione dei lavori si verificano sinistri, l'esecutore può pretendere indennizzi per danni alle opere o provviste?** BC0020
- A** Solo in caso fortuito o di forza maggiore e nei limiti consentiti nel contratto
  - B** Sì, sempre
  - C** No, mai

- 
- 21 **In base al D.M. 49/2018, nel caso di sospensione dei lavori ai sensi dell'articolo 107 del Codice degli appalti e dei contratti pubblici, chi dispone visite periodiche al cantiere durante il periodo di sospensione per accertare le condizioni delle opere?** BC0021
- A** Il direttore dei lavori
  - B** L'esecutore
  - C** Il RUP

- 
- 22 **La stazione appaltante, nei contratti relativi ai lavori, verifica la rispondenza degli elaborati progettuali ai documenti di cui all'articolo 23 del d.lgs. 50/2016, nonché la loro conformità alla normativa vigente:** BC0022
- A** prima dell'inizio delle procedure di affidamento
  - B** prima della stipula del contratto di appalto
  - C** prima dell'inizio dei lavori

- 
- 23 **Nel campo di applicazione del d.lgs 50/2016, il responsabile dei Lavori è:** BC0023
- A** il responsabile unico del procedimento
  - B** il direttore dei lavori
  - C** il dirigente dell'area tecnica

- 
- 24 **Che cosa significa l'acronimo COAU, previsto dalla legge 353/2000?** BC0024
- A** Centro operativo aereo unificato
  - B** Centro operativo antincendio unificato
  - C** Centro organizzativo antincendio unificato

- 
- 25 **Ai sensi della legge 353/2000, quale delle seguenti affermazioni NON è corretta?** BC0025
- A** Le Regioni non possono concedere contributi a privati proprietari di aree boscate, per operazioni di pulizia e di manutenzione selvicolturale, anche se prioritariamente finalizzate alla prevenzione degli incendi boschivi
  - B** Le attività di previsione e prevenzione degli incendi boschivi vengono programmate dalle Regioni e riviste annualmente
  - C** Le Province, le comunità montane e i Comuni attuano le attività di previsione e di prevenzione secondo le attribuzioni stabilite dalle Regioni
- 
- 26 **L'attività informativa rimessa alle Regioni dalla legge 353/2000 (Legge Quadro in materia di incendi boschivi) comprende:** BC0026
- A** l'informazione alla popolazione in merito alle cause determinanti l'innescio di incendio e alle norme comportamentali da rispettare in situazioni di pericolo
  - B** l'integrazione dei programmi didattici delle scuole e degli istituti di ogni ordine e grado
  - C** l'informazione statistica alle popolazioni locali in merito agli incendi dolosi
- 
- 27 **Secondo la normativa in vigore, i dipendenti possono, di loro iniziativa, apportare modifiche ai dispositivi di protezione individuale messi a loro disposizione?** BC0027
- A** No, mai
  - B** Sì, sempre
  - C** Solamente il responsabile per la sicurezza ha questa facoltà
- 
- 28 **Secondo la normativa sulla sicurezza nei luoghi di lavoro il "rischio", in relazione all'esposizione ad agenti chimici, è:** BC0028
- A** la probabilità che si raggiunga il potenziale nocivo nelle condizioni di utilizzazione o esposizione a tali agenti
  - B** il danno che può causare una sostanza in caso di incendio o incidente
  - C** il danno che può causare una sostanza chimica erroneamente dispersa nell'ambiente o non smaltita
- 
- 29 **In base al d.lgs. 81/2008, che cosa si intende per "apprestamenti"?** BC0029
- A** Le opere provvisorie necessarie ai fini della tutela della salute e della sicurezza dei lavoratori in cantiere
  - B** Qualsiasi macchina, apparecchio, utensile o impianto destinato a essere usato durante il lavoro
  - C** L'insieme di scelte effettuate dal progettista dell'opera, in collaborazione con il coordinatore per la progettazione, al fine di garantire l'eliminazione o la riduzione al minimo dei rischi di lavoro
- 
- 30 **In base al d.lgs. 81/2008, Testo Unico in materia di tutela della salute e sicurezza nei luoghi di lavoro, nei cantieri temporanei quale tra i seguenti NON è un obbligo specifico del coordinatore per l'esecuzione dei lavori?** BC0030
- A** Redigere il piano di sicurezza e di coordinamento
  - B** Adeguare il piano di sicurezza e di coordinamento in relazione all'evoluzione dei lavori e alle eventuali modifiche intervenute
  - C** Sospendere, in caso di pericolo grave e imminente, direttamente riscontrato, le singole lavorazioni fino alla verifica degli avvenuti adeguamenti effettuati dalle imprese interessate
-

---

31 BC0031  
**Ai sensi della legge 241/1990, diritto di accesso si esercita nei confronti:**  
**A** delle Pubbliche Amministrazioni, delle aziende autonome e speciali, degli Enti pubblici e dei gestori di pubblici servizi  
**B** solo delle aziende private  
**C** solo delle aziende iscritte in un apposito albo

---

32 BC0032  
**Ai sensi della legge 241/1990, se nessuna legge o regolamento stabilisce il termine entro cui un procedimento amministrativo deve concludersi, tale termine:**  
**A** è di trenta giorni  
**B** è di sessanta giorni  
**C** è fissato dal TAR

---

33 BC0033  
**Il compito di definire le procedure appropriate per selezionare e formare i dipendenti destinati a operare in settori di attività particolarmente esposti alla corruzione spetta:**  
**A** al Responsabile della prevenzione della corruzione  
**B** al Sindaco  
**C** alla Giunta, che adotta con delibera un apposito regolamento

---

34 BC0034  
**Ai sensi del d.lgs. 33/2013, da quale soggetto è adottato il Piano Nazionale Anticorruzione?**  
**A** Dall'Autorità Nazionale Anticorruzione  
**B** Dal Dipartimento della Funzione Pubblica  
**C** Dal Consiglio dei Ministri

---

35 BC0035  
**A norma dell'articolo 21 del Regolamento UE 2016/679 (GdPR), l'interessato ha diritto a opporsi al trattamento dei dati personali che lo riguardano?**  
**A** Sì, in qualunque momento  
**B** Sì, ma solo dopo 3 mesi dal consenso al trattamento che ha prestato  
**C** Sì, ma solo dopo 15 giorni dal consenso al trattamento che ha prestato o dalla conoscenza del trattamento

---

36 BC0036  
**Ai sensi dell'art. 46 del d.P.R. 445/2000, quale dei seguenti stati, qualità personali e fatti può essere comprovato con dichiarazioni, anche contestuali all'istanza, sottoscritte dall'interessato e prodotte in sostituzione delle normali certificazioni?**  
**A** Il non aver riportato condanne penali  
**B** Il godimento dei diritti civili ma non di quelli politici  
**C** L'assolvimento dei generali obblighi contributivi e tributari, senza l'indicazione dell'ammontare corrisposto

---

- 
- BC0037
- 37 Il d.lgs. 165/2001, all'articolo 35, comma 2, prevede limitazioni per le assunzioni da parte di Pubbliche Amministrazioni per lavoratori appartenenti alle cosiddette "categorie protette"?
- A** Sì, la previa verifica della compatibilità della invalidità del lavoratore con le mansioni da svolgere
  - B** Sì, la previa verifica della normativa regionale applicabile nel rispetto del decentramento delle procedure di reclutamento
  - C** No, sebbene sia necessario il parere del Centro per l'impiego di riferimento

- 
- BC0038
- 38 A norma del d.lgs. 165/2001 e s.m.i., l'inosservanza degli obblighi di trasmissione per via telematica della certificazione medica concernente le assenze di lavoratori per malattia costituisce illecito disciplinare?
- A** Sì, sempre
  - B** In caso di reiterazione
  - C** No

- 
- BC0039
- 39 In base al d.P.R. 62/2013, chi tra i seguenti vigila sull'applicazione dello stesso?
- A** I dirigenti responsabili di ciascuna struttura
  - B** Ogni pubblico dipendente
  - C** L'ufficio procedimenti disciplinari

- 
- BC0040
- 40 In base all'art. 6 del d.P.R. 62/2013, il dipendente pubblico che versi in situazioni di conflitto di interessi con interessi personali:
- A** si astiene dal prendere decisioni o svolgere attività inerenti alle sue mansioni
  - B** si astiene dal prendere decisioni, ma può svolgere attività inerenti alle sue mansioni
  - C** può svolgere attività inerenti alle sue mansioni, purché meramente esecutive

- 
- BC0041
- 41 "È sbagliato non ammettere che la prolungata siccità non è bastata a impedire che la vendemmia fosse abbondante". Basandosi sulla precedente affermazione, individuare quale delle seguenti alternative è necessariamente vera.
- A** La vendemmia è stata abbondante nonostante la prolungata siccità
  - B** Bisogna ammettere che la siccità non è stata prolungata
  - C** La vendemmia è stata povera a causa della siccità

- 
- BC0042
- 42 "È necessario stare molto attenti per comprendere bene la lezione di fisica". Se la precedente affermazione è vera, allora è anche vero che:
- A** se si è compresa bene la lezione di fisica, vuol dire che si è stati molto attenti
  - B** stando molto attenti si comprende sicuramente la lezione di fisica
  - C** se non si comprende la lezione di fisica, significa che non si è stati molto attenti



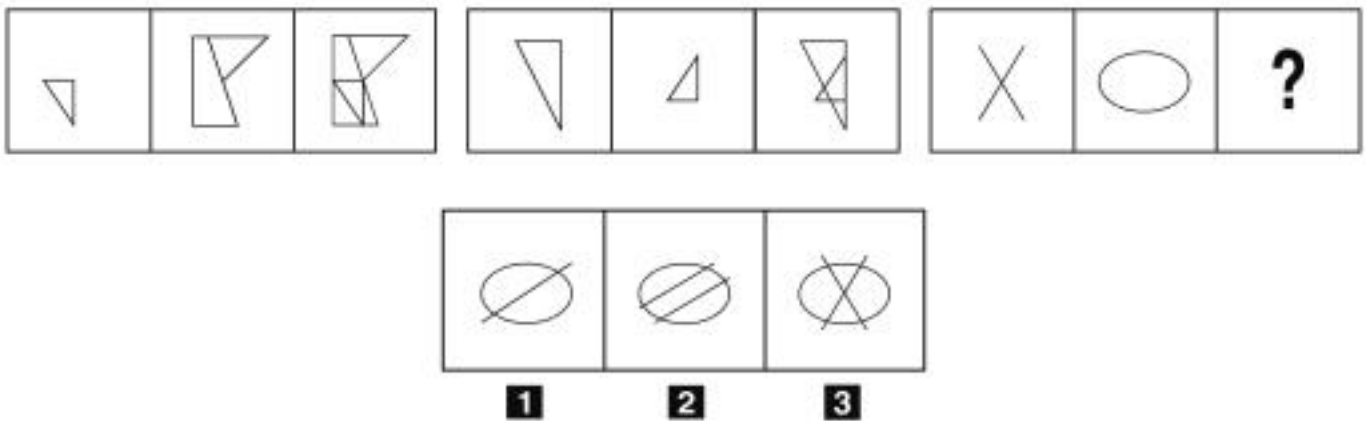
43 "Le persone presenti in questa stanza hanno tutte più di 50 anni. Santo è un astronomo del mio quartiere. Ogni astronomo del mio quartiere ha più di 50 anni". Se le precedenti informazioni sono vere, quale delle seguenti affermazioni **NON** è necessariamente vera?

- A** Santo è presente in questa stanza
- B** In questa stanza potrebbe non esserci nemmeno un astronomo
- C** Chi ha meno di 50 anni non è in questa stanza

44 Quale, tra i termini proposti, completa correttamente la seguente proporzione verbale? Idromele : bevanda = pitagorismo : X

- A** X = filosofia
- B** X = calcoli
- C** X = Pitagora


FIGURA TT 67



45 Rispondere al seguente quesito facendo riferimento alla FIGURA TT 67  
Individuare la figura che completa correttamente la serie.

- A** Figura 3
- B** Figura 1
- C** Figura 2

FIGURA SS 22



46


Rispondere al seguente quesito facendo riferimento alla FIGURA SS 22

BC0046

Individuare la figura che completa la serie.

- A** Figura 3
- B** Figura 2
- C** Figura 1

FIGURA SP 19



47

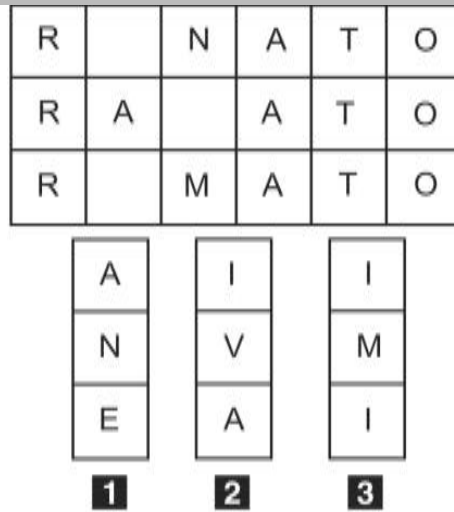
Rispondere al seguente quesito facendo riferimento alla FIGURA SP 19

BC0047

Individuare la figura che corrisponde alla prima composizione vista allo specchio.

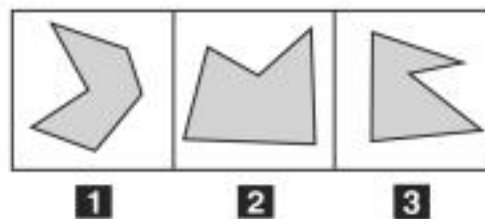
- A** Figura 3
- B** Figura 2
- C** Figura 1

**FIGURA TZ 84**



- 48 Rispondere al seguente quesito facendo riferimento alla FIGURA TZ 84 BC0048  
Quale dei tre tasselli proposti contiene le lettere mancanti che permettono di formare tre parole di senso compiuto?
- A** Il tassello 3
  - B** Il tassello 2
  - C** Il tassello 1

**FIGURA TU 21**



- 49 Rispondere al seguente quesito facendo riferimento alla FIGURA TU 21 BC0049  
Individuare la figura da scartare.
- A** Figura 1
  - B** Figura 2
  - C** Figura 3

## DIAGRAMMA RY 00

Individuare la relazione insiemistica esistente tra i termini dati.



DIAGRAMMA 1



DIAGRAMMA 2



DIAGRAMMA 3



DIAGRAMMA 4



DIAGRAMMA 5



DIAGRAMMA 6

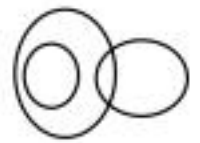
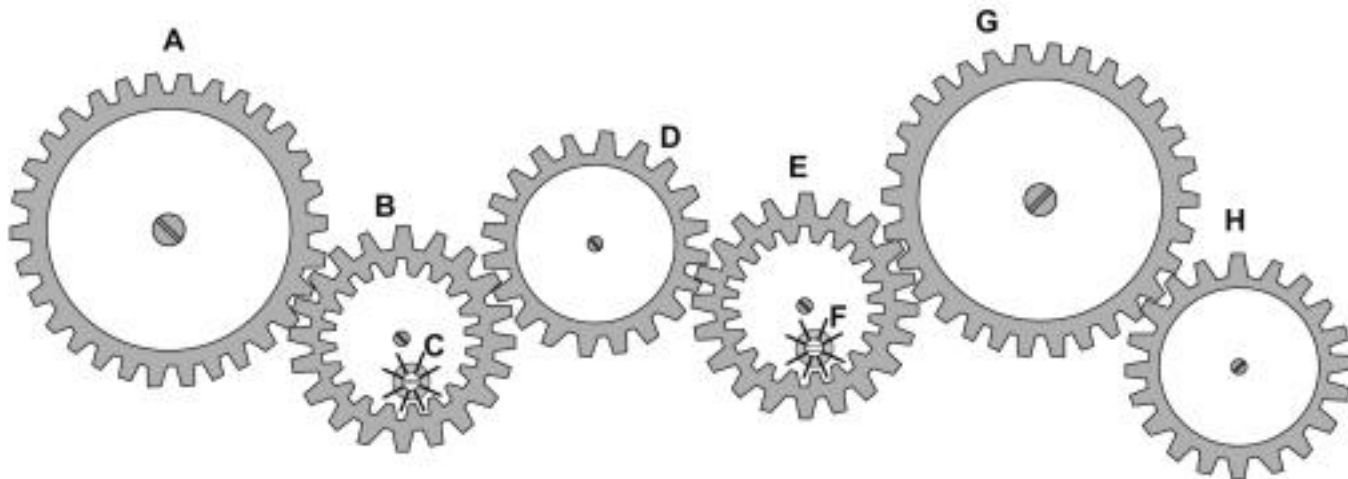


DIAGRAMMA 7

- 50 Rispondere al seguente quesito facendo riferimento al DIAGRAMMA RY 00 BC0050  
Fiori, Papaveri, Papere  
**A** Diagramma 2  
**B** Diagramma 3  
**C** Diagramma 6
- 
- 51 BC0051  
In una popolazione campione, il 25% degli intervistati mangia carne ogni giorno e il 15% mangia pasta tutti i giorni. Il 10% degli intervistati che ha dichiarato di mangiare carne o pasta tutti i giorni, mangia sia carne che pasta ogni giorno. Scegliendo a caso un individuo, che probabilità c'è che mangi ogni giorno sia pasta sia carne?  
**A** 1/25  
**B** 1/50  
**C** 1/5
- 
- 52 BC0052  
Una società che inizialmente fatturava 700 milioni di euro ha visto calare del 50% il fatturato nel primo anno, del 40% nel secondo e del 80% nel terzo. Qual è il suo fatturato alla fine del terzo anno?  
**A** 42 milioni di euro  
**B** 84 milioni di euro  
**C** 658 milioni di euro
- 
- 53 BC0053  
Una latteria utilizza dei vasetti in vetro per confezionare il suo yogurt. Se il peso lordo di un barattolo è pari a 400 g e il vasetto pesa 140 g, calcolare il peso netto dello yogurt in grammi.  
**A** 260  
**B** 540  
**C** 420
- 
- 54 BC0054  
Se un TIR viaggia a una velocità media di 90 km/h, dopo 3 ore avrà percorso:  
**A** 270 km  
**B** 180 km  
**C** 240 km

**FIGURA UY 27**

Nel sistema raffigurato, le ruote dentate sono libere di ruotare attorno a un perno fisso.



- 55 Rispondere al seguente quesito facendo riferimento alla FIGURA UY 27 BC0055  
Se la ruota dentata D ruota in senso orario, in quale senso gira la ruota dentata F?  
**A** In senso inverso rispetto alla ruota dentata G  
**B** In senso orario  
**C** Nello stesso senso della ruota dentata G
- 56 BC0056  
Se la sveglia di Lisa segna sul display le 9.45 di martedì, tra 52 ore e 30 minuti saranno:  
**A** le 14.15 di giovedì  
**B** le 13.15 di giovedì  
**C** le 2.15 di venerdì
- 57 BC0057  
In un ipotetico linguaggio in codice, al codice LESESOSO corrisponde la parola LESO e al codice PSICOSOFISISISICASA corrisponde la parola PSICOFISICA. Quale sarà la parola corrispondente al codice PRESESSOSO?  
**A** PRESSO  
**B** PRESO  
**C** PRESTO
- 58 BC0058  
La somma delle cifre di quale numero è uguale a 22?  
**A** 859  
**B** 869  
**C** 786
- 59 BC0059  
Completare correttamente la seguente successione di lettere, utilizzando l'alfabeto italiano: G; M; Q; U; B; ?; L; P  
**A** F  
**B** H  
**C** E

60

Se:

$$\# + \# = \zeta - \xi$$

$$\zeta = 11$$

$$\# = 7$$

allora  $\xi$  è uguale a:

**A** -3

**B** -9

**C** 9

61

In base al d.lgs. 34/2018, se è stata chiesta l'autorizzazione alla trasformazione del bosco, chi deve presentare il progetto delle opere o dei servizi compensativi?

**A** Il richiedente la trasformazione

**B** La Regione

**C** Il Comune o i Comuni dell'area interessata

62

In base alla legge 18/2011 della Regione Umbria, quale dei seguenti compiti NON è attribuito all'Agenzia forestale regionale?

**A** Disboscamento

**B** Imboschimento

**C** Rimboschimento

63

Rientra/rientrano nella fase istruttoria del procedimento amministrativo:

**A** l'accertamento d'ufficio dei fatti da parte del responsabile del procedimento

**B** gli accordi sostitutivi

**C** la richiesta e la proposta vincolante

64

Se tutti i clienti presenti nella cartoleria possono comprare contemporaneamente almeno uno dei quindici quaderni presenti, allora si può dedurre con certezza che i clienti presenti nella cartoleria sono:

**A** al massimo quindici

**B** almeno quindici

**C** esattamente quindici

65

Completare correttamente la seguente successione numerica: ?; ?; 24; 49; 29; 52; 34; 55

**A** 19; 46

**B** 21; 44

**C** 46; 19

