



**AFOR Umbria**

Agenzia Forestale Regionale

**Bando di concorso pubblico per titoli ed esami  
per la copertura di complessivi n. 18 posti  
Cat. C posizione economica C1  
a tempo pieno e indeterminato  
di profili tecnici e amministrativi da impiegare  
presso l'Agencia Forestale Regionale dell'Umbria**

**Istruttore tecnico geometra Cat. C  
del CCNL Funzioni Locali**

**Prova 01**

- 
- 1 HA0001  
**Secondo la legge 241/1990, la Commissione per l'accesso ai documenti amministrativi è istituita presso:**  
**A** la Presidenza del Consiglio dei Ministri  
**B** ogni Ente pubblico statale  
**C** ogni Ente pubblico economico di competenza statale
- 
- 2 HA0002  
**Ai sensi del d.lgs. 33/2013, la coerenza tra gli obiettivi previsti nel Piano triennale per la prevenzione della corruzione e quelli indicati nel Piano della performance è verificata:**  
**A** dall'Organismo Indipendente di Valutazione  
**B** dall'Autorità Nazionale Anticorruzione  
**C** dall'Organo di indirizzo politico dell'Amministrazione
- 
- 3 HA0003  
**Secondo il d.P.R. 445/2000, l'esibizione di un atto contenente dati non più rispondenti a verità:**  
**A** equivale a uso di atto falso  
**B** non equivale a uso di atto falso  
**C** equivale a uso di atto falso se i dati non corrispondono più a verità da oltre tre mesi
- 
- 4 HA0004  
**Un atto amministrativo è:**  
**A** un atto emanato da un'autorità amministrativa  
**B** un atto emanato da un Ente necessariamente economico  
**C** un atto non unilaterale
- 
- 5 HA0005  
**In base alla legge 190/2012, la durata del Piano nazionale anticorruzione è di:**  
**A** tre anni  
**B** due anni  
**C** cinque anni
- 
- 6 HA0006  
**Ai sensi del d.lgs. 81/2008 e s.m.i., titolo I, quali sono i soggetti penalmente responsabili in materia di Salute e Sicurezza nei Luoghi di Lavoro?**  
**A** Il Datore di Lavoro; i Dirigenti; i Preposti; il Medico Competente; il Lavoratore; i Progettisti; i Fabbricanti; i Fornitori; gli Installatori  
**B** Il Datore di Lavoro; i Dirigenti; il Medico Competente; il RSPP; i Progettisti; i Fabbricanti  
**C** Il Datore di Lavoro; i Preposti; il Medico Competente; il RSPP; Il RLS; i Progettisti; i Fabbricanti; i Fornitori; gli Installatori

- 
- 7 HA0007  
**Ai sensi dell'articolo 36 del d.lgs. 165/2001, le Amministrazioni Pubbliche possono avvalersi delle forme contrattuali flessibili di assunzione e impiego previste dal Codice Civile e dalla legge, sui rapporti di lavoro subordinato nell'impresa:**
- A** per rispondere a esigenze temporanee o eccezionali
  - B** per esigenze connesse al proprio fabbisogno ordinario
  - C** entro un limite percentuale del proprio organico, stabilito dalla contrattazione collettiva integrativa
- 

- 8 HA0008  
**Dispone l'art. 46 del d.lgs. 165 del 2001 che, agli effetti della contrattazione collettiva nazionale, le Pubbliche Amministrazioni:**
- A** sono legalmente rappresentate dall'Agenzia per la rappresentanza negoziale delle Pubbliche Amministrazioni (ARAN)
  - B** sono legalmente rappresentate dai dirigenti di livello dirigenziale generale preposti alla gestione del personale e/o delle risorse umane, assistiti dall'ARAN
  - C** sono legalmente rappresentate dai rispettivi organi di indirizzo politico-amministrativo, che si avvalgono dell'apporto consulenziale dell'ARAN
- 

- 9 HA0009  
**Secondo il d.lgs. 81/2008, un lavoratore tenuto a utilizzare i DPI può apportarvi modifiche di propria iniziativa?**
- A** No, mai
  - B** Sì, ma solo quando la persona è in possesso delle specifiche conoscenze tecniche
  - C** Sì, nei casi in cui ne semplifica l'utilizzo
- 

- 10 HA0010  
**A norma del GdPR 2016/679, i "dati sensibili" sono i dati personali volti a rivelare:**
- A** l'origine razziale o etnica, le convinzioni religiose, filosofiche o di altro genere, le opinioni politiche, l'adesione a partiti o sindacati, nonché i dati personali idonei a rivelare lo stato di salute e la vita sessuale
  - B** l'origine regionale e territoriale, l'adesione a organizzazioni segrete, a gruppi di pressione o a lobby economiche
  - C** la formazione scolastica, le parentele, l'origine dei capitali detenuti, le convinzioni sportive, l'adesione a associazioni a carattere sportivo o ricreativo
- 

- 11 HA0011  
**In base al d.lgs. 81/2008, cosa si intende per "PSS"?**
- A** Piano di sicurezza sostitutivo del piano di sicurezza e di coordinamento
  - B** Piano di sicurezza statale
  - C** Programma di sicurezza sussidiario
- 

- 12 HA0012  
**A norma del GDPR che cosa si intende per "autorità di controllo"?**
- A** L'autorità pubblica indipendente istituita da uno Stato membro
  - B** L'autorità istituita da uno Stato membro
  - C** L'autorità pubblica o privata, istituita da uno Stato membro
-

- 
- HA0013
- 13 **Ai sensi dell'articolo 35, comma 7, del d.lgs. 50/2016, in tema di soglie di rilevanza comunitaria e metodi di calcolo del valore stimato degli appalti, quando è quantificato il valore stimato dell'appalto?**
- A** Al momento dell'invio dell'avviso di indizione di gara o del bando di gara ovvero al momento in cui l'Amministrazione aggiudicatrice o l'Ente aggiudicatore avvia la procedura di affidamento del contratto
  - B** Al momento in cui l'aggiudicazione del contratto diventa efficace
  - C** Al momento in cui viene delineato il progetto di fattibilità tecnica ed economica
- 
- HA0014
- 14 **In base alla legge 353/2000, rientra/rientrano nell'attività di prevenzione del rischio di incendi boschivi:**
- A** il porre in essere azioni mirate a ridurre le cause e il potenziale innesco d'incendio
  - B** l'individuazione delle aree e dei periodi a rischio di incendio boschivo
  - C** l'individuazione degli indici di pericolosità
- 
- HA0015
- 15 **La legge 353/2000 (Legge Quadro in materia di incendi boschivi) affida alle Regioni lo svolgimento di attività formative nelle scuole ai fini di un'effettiva educazione ambientale?**
- A** Sì, d'intesa con lo Stato, tramite l'integrazione dei programmi didattici
  - B** Sì, esclusivamente tramite l'organizzazione di appositi corsi
  - C** No, è un compito esclusivamente statale
- 
- HA0016
- 16 **Il d.lgs. 165/2001 individua tra le fonti di disciplina del rapporto di lavoro alle dipendenze delle Amministrazioni Pubbliche:**
- A** il Codice Civile
  - B** il Codice di Procedura Civile
  - C** il Codice Penale
- 
- HA0017
- 17 **Ai sensi del d.P.R. 184/2006, i controinteressati individuati dalla Pubblica Amministrazione possono presentare motivata opposizione all'accesso ai documenti amministrativi entro:**
- A** dieci giorni dalla ricezione della comunicazione da parte della P.A.
  - B** trenta giorni dalla richiesta di accesso agli atti
  - C** sessanta giorni dalla ricezione della comunicazione da parte della P.A.
- 
- HA0018
- 18 **Ai sensi del d.lgs. 165/2001, il dipendente pubblico può svolgere un'attività professionale esterna?**
- A** Sì, ma solo se ha richiesto e ottenuto l'autorizzazione allo svolgimento dell'attività dall'Amministrazione di appartenenza
  - B** Mai, per l'esclusività del rapporto di lavoro pubblico
  - C** Sì, ma solo se l'attività viene svolta al di fuori dell'orario di lavoro

- 
- HA0019
- 19 L'art. 1 della legge regionale dell'Umbria 21/01/2015, n. 1 riferisce la seguente definizione “complesso coordinato, organico e sinergico, delle attività conoscitive, regolative, valutative, attuative, di vigilanza e controllo, nonché di programmazione, anche della spesa, riguardanti gli interventi di tutela, valorizzazione ed uso del territorio nelle materie attinenti l'urbanistica e l'edilizia”:
- A** al governo del territorio
  - B** all'amministrazione del territorio
  - C** alla tutela del territorio
- 
- HA0020
- 20 In base all'art. 2 della legge regionale dell'Umbria 21/01/2015, n. 1 ai fini della pianificazione urbanistica comunale la Regione privilegia il metodo:
- A** della copianificazione
  - B** gerarchico
  - C** della sussidiarietà
- 
- HA0021
- 21 In base all'art. 3 della legge regionale dell'Umbria 21/01/2015, n. 1, la pianificazione caratterizzata dalla definizione di obiettivi e scelte di medio e lungo termine è detta:
- A** strategica e programmatica
  - B** regolativa
  - C** conformativa
- 
- HA0022
- 22 In base all'art. 6 della legge regionale dell'Umbria 21/01/2015, n. 1 quali delle seguenti funzioni amministrative sono conferite alle Province?
- A** Le funzioni in materia di pianificazione di area vasta
  - B** Le funzioni relative all'identificazione, individuazione e perimetrazione delle aree sensibili all'esposizione ai campi elettrici, magnetici ed elettromagnetici
  - C** Le funzioni in materia paesaggistica
- 
- HA0023
- 23 Rete Natura 2000 è:
- A** una rete di aree destinate alla conservazione della biodiversità sul territorio dell'Unione Europea
  - B** un'area naturalistica protetta, divisa sul territorio dell'Unione Europea
  - C** una voce del bilancio dell'Unione Europea
- 
- HA0024
- 24 In base alla legge 9/1995 e s.m.i. della Regione Umbria, il Piano regionale delle Aree naturali protette è approvato:
- A** dal Consiglio regionale
  - B** dalla Giunta regionale
  - C** dall'Agenzia forestale regionale
-

- 
- HA0025
- 25 In base al d.lgs. 152/2006 “Norme in materia ambientale”, ogni attività umana giuridicamente rilevante ai sensi del d.lgs. stesso deve conformarsi al principio:
- A** dello sviluppo sostenibile
  - B** della tracciabilità
  - C** del profitto
- 
- HA0026
- 26 In base al d.lgs. 42/2004 “Codice dei beni culturali e del paesaggio”, il patrimonio culturale è costituito:
- A** dai beni culturali e dai beni paesaggistici
  - B** dai beni artistici, storici, archeologici
  - C** dai beni immobili che siano testimonianze di civiltà
- 
- HA0027
- 27 In base al d.P.R. 31/2017, quale dei seguenti è un intervento di lieve entità, in aree sottoposte a tutela paesaggistica, per il quale è previsto un procedimento autorizzatorio semplificato?
- A** Incrementi di volume non superiori al 10 per cento della volumetria della costruzione originaria e comunque non superiori a 100 mc, eseguiti nel rispetto delle caratteristiche architettoniche, morfo-tipologiche, dei materiali e delle finiture esistenti
  - B** Opere interne che non alterano l'aspetto esteriore degli edifici
  - C** Interventi sui prospetti o sulle coperture degli edifici, purché eseguiti nel rispetto degli eventuali piani del colore vigenti nel comune e delle caratteristiche architettoniche, morfo-tipologiche, dei materiali e delle finiture esistenti
- 
- HA0028
- 28 In base alla legge 18/2011 della Regione Umbria, l'Agenzia forestale regionale:
- A** ha personalità giuridica di diritto pubblico
  - B** ha personalità giuridica di diritto privato
  - C** non ha personalità giuridica
- 
- HA0029
- 29 In base alla legge 18/2011 della Regione Umbria, quale dei seguenti è un compito dell'Agenzia forestale regionale?
- A** Interventi di tutela dei boschi esistenti e attività connesse
  - B** Governo della spesa ambientale
  - C** Sensibilizzazione alle tematiche ambientali
- 
- HA0030
- 30 In base alla legge 18/2011 della Regione Umbria, la gestione finanziaria dell'Agenzia forestale regionale è improntata a quali dei seguenti criteri?
- A** Efficacia, trasparenza ed economicità
  - B** Efficacia, trasparenza e profitto
  - C** Efficacia, trasparenza e risparmio

- 
- HA0031
- 31 In base alla legge 18/2011 della Regione Umbria, chi ha la rappresentanza legale dell'Agenzia forestale regionale?
- A** L'Amministratore unico
  - B** Il Collegio dei revisori legali
  - C** Il presidente della Giunta regionale
- 
- HA0032
- 32 In base alle Linee guida dell'ANAC attuative del nuovo Codice degli Appalti, il RUP può svolgere anche le funzioni di progettista o di direttore dei lavori?
- A** Sì, in taluni casi
  - B** Solo il direttore dei lavori, in taluni casi
  - C** No, mai
- 
- HA0033
- 33 Le Linee guida dell'ANAC attuative del nuovo Codice degli Appalti chiariscono che l'Autorità, per quanto riguarda il RUP:
- A** individua ulteriori requisiti di professionalità rispetto a quanto previsto dal Codice
  - B** definisce i requisiti di professionalità, non enunciati nel Codice
  - C** può derogare i requisiti di professionalità previsti dal Codice
- 
- HA0034
- 34 In base al d.m. 49/2018, se i materiali o i componenti sono deperiti dopo l'introduzione in cantiere, il direttore dei lavori:
- A** li rifiuta in qualunque tempo
  - B** non li può rifiutare
  - C** ha discrezione nel rifiutarli
- 
- HA0035
- 35 In base al d.m. 49/2018, in ordine al controllo tecnico, il direttore dei lavori:
- A** opera in autonomia
  - B** esegue le disposizioni del RUP
  - C** impartisce disposizioni al RUP
- 
- HA0036
- 36 In base alla legge 353/2000, le zone, aree o fasce, nelle quali l'interconnessione tra le abitazioni o altre strutture antropiche e le aree naturali o la vegetazione combustibile è molto stretta, sono dette zone di:
- A** interfaccia urbano-rurale
  - B** interconnessione urbano-rurale
  - C** confine urbano-rurale

---

HA0037

37

A quale definizione corrisponde, in base al d.lgs. 34/2018, la seguente descrizione: “superficie boscata costituita da specie autoctone spontanee coerenti con il contesto biogeografico, con una biodiversità caratteristica conseguente all'assenza di disturbi da almeno sessanta anni e con la presenza di stadi seriali legati alla rigenerazione ed alla senescenza spontanee”?

- A Bosco vetusto
- B Bosco di protezione diretta
- C Bosco da pascolo

---

HA0038

38

In base al d.lgs 34/2018, ogni intervento che comporti l'eliminazione della vegetazione arborea e arbustiva esistente, finalizzato ad attività diverse dalla gestione forestale, costituisce:

- A trasformazione del bosco
- B eradicazione del bosco
- C gestione del bosco

---

HA0039

39

In base alla legge regionale 28/2001 della Regione Umbria, la formazione e l'aggiornamento del Sistema informativo forestale (SIFOR) è di competenza:

- A regionale
- B statale
- C comunitaria

---

HA0040

40

In base alla legge regionale 28/2001 della Regione Umbria, ai fini della ricomprensione nel concetto di “bosco”, le superfici dovranno essere coperte da vegetazione forestale arborea di origine:

- A naturale o artificiale
- B esclusivamente naturale
- C esclusivamente artificiale

---

HA0041

41

Un gioco ha le seguenti regole: se un numero è divisibile per 5 vale 4 punti; se è divisibile per 8 vale 3 punti. In base a tali regole, quale dei seguenti numeri vale di più?

- A 40
- B 24
- C 48

---

HA0042

42

Completare correttamente la seguente successione numerica: 46; 69; 100; ?; ?; 132; 110; 133

- A 78; 101
- B 78; 109
- C 123; 110



43 "Chi va al drive-in mangia i pop corn. Tutti i giovani mangiano i pop corn. Andrea va al drive-in". Se le precedenti affermazioni sono vere, quale delle seguenti è necessariamente vera?

- A** Andrea mangia i pop corn
- B** Andrea è giovane
- C** Chi va al drive-in è giovane

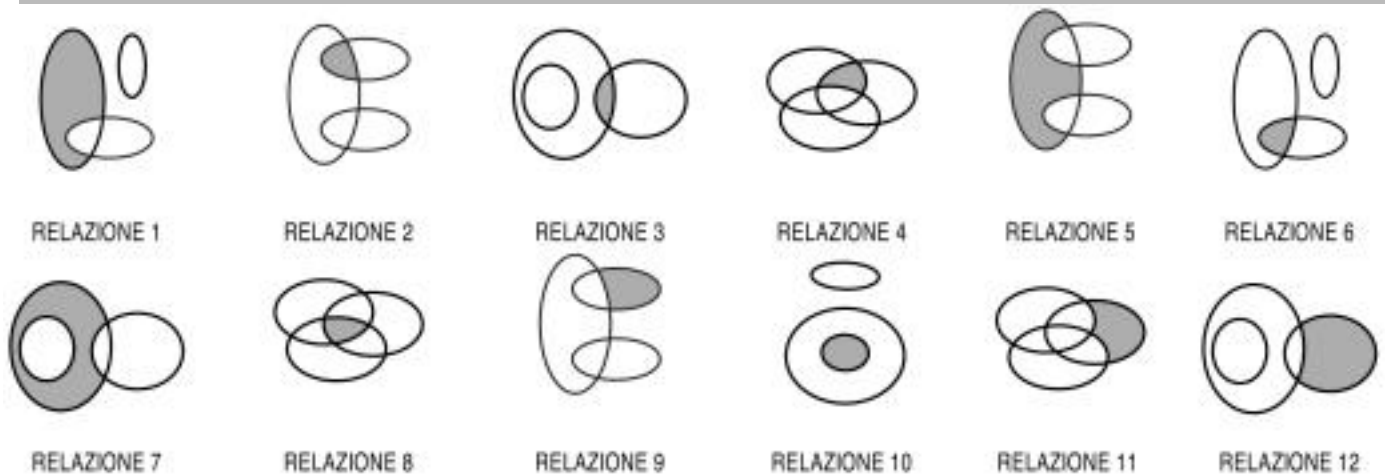
44 Dire che la frase "tutti loro non studiano" è FALSA significa dire che:

- A** almeno uno tra loro studia
- B** nessuno di loro studia
- C** uno tra loro non studia

45 In un torneo di ping pong la classifica dal 1° al 7° posto è la seguente: Gaia, Fausto, Ilaria, Aldo, Beatrice, Claudio, Enrico. Cinque di questi sette ragazzi non sono destrimani e si sa che a non essere destrimani sono tre tra i primi quattro classificati e tre tra gli ultimi quattro classificati. Si può essere certi che a non essere destrimano è:

- A** Aldo
- B** Enrico
- C** Fausto

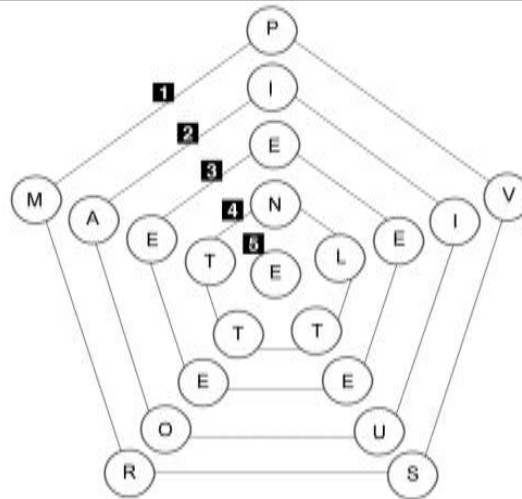
#### DIAGRAMMA RY 02



46 Rispondere al seguente quesito facendo riferimento al DIAGRAMMA RY 02  
I tre termini "Neonati, Piloti, Tedeschi" sono legati da una relazione insiemistica. All'interno di questa relazione, "Neonate tedesche" si trova nella parte annerita della:

- A** relazione 2
- B** relazione 6
- C** relazione 12

FIGURA TZ 64



- 47 Rispondere al seguente quesito facendo riferimento alla FIGURA TZ 64 HA0047  
 Quale pentagono è necessario eliminare affinché si formino in ogni linea parole di senso compiuto?  
**A** Il numero 2  
**B** Il numero 1  
**C** Il numero 4

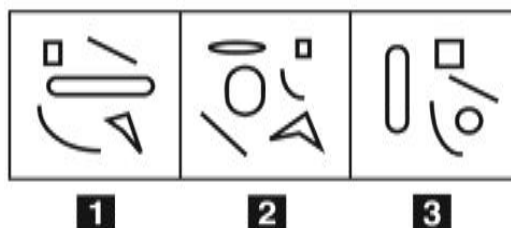
- 48 HA0048  
 Se le lancette di un orologio segnano le 3.30 di lunedì, tra 44 ore e 45 minuti saranno:  
**A** le 0.15 di mercoledì  
**B** le 12.15 di giovedì  
**C** le 20.15 di martedì

- 49 HA0049  
 Sabina investe 30.000 euro in un fondo che garantisce un rendimento annuo dell'80% per 2 anni. A quanto ammonta l'incremento di valore registrato dalla sua partecipazione solamente nel primo anno?  
**A** 24.000 euro  
**B** 43.200 euro  
**C** A un importo identico a quello del secondo anno

- 50 HA0050  
 Quali, tra i termini proposti, completano correttamente la seguente proporzione verbale? Aeroplano : X = nave : Y  
**A** X = atterrare; Y = attraccare  
**B** x = ala; y = capitano  
**C** X = aeroporto; Y= rotta

- 51 HA0051  
 Indicare in quale delle seguenti alternative la lettera V è presente un numero maggiore di volte rispetto alla lettera A.  
**A** VAAVAVAVVAAVVV  
**B** AVAAVAVAAVAVAV  
**C** VAAVVAVAVAVAA

FIGURA SR 53

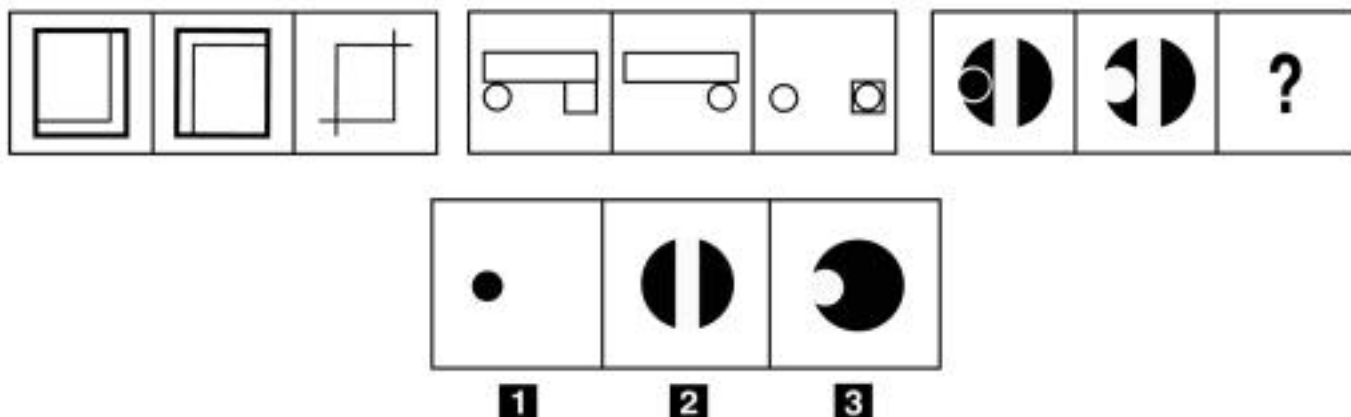


52 Rispondere al seguente quesito facendo riferimento alla FIGURA SR 53  
Individuare la figura da scartare.

HA0052

- A** Figura 2
- B** Figura 3
- C** Figura 1

FIGURA SR 91

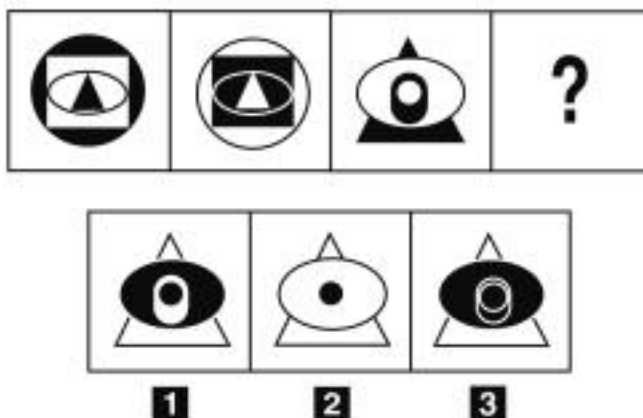


53 Rispondere al seguente quesito facendo riferimento alla FIGURA SR 91  
Individuare la figura che completa la serie.

HA0053

- A** Figura 1
- B** Figura 2
- C** Figura 3

FIGURA SN 35

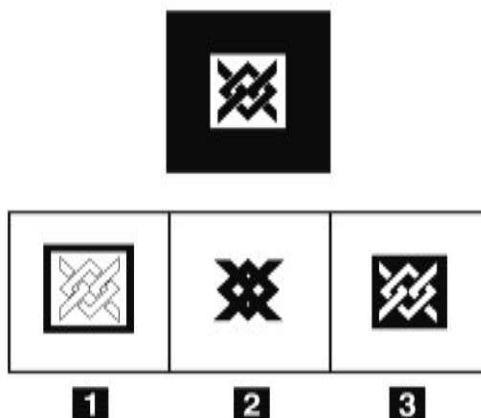


54 Rispondere al seguente quesito facendo riferimento alla FIGURA SN 35  
Individuare la figura che completa la serie.

HA0054

- A** Figura 1
- B** Figura 2
- C** Figura 3

FIGURA SP 03



55 Rispondere al seguente quesito facendo riferimento alla FIGURA SP 03  
Individuare, tra le alternative proposte, la versione in negativo della figura data.

HA0055

- A** Figura 3
- B** Figura 1
- C** Figura 2

56 Un'impresa con 1.200 operai produce 360.000 pezzi in tre anni. Quale sarebbe la produzione annua dell'impresa se gli operai fossero 500?

HA0056

- A** 50.000
- B** 150.000
- C** 44.000

57 Un sito che offre corsi online ha 440 iscritti, di cui 2/5 sono femmine. Si sa inoltre che il 60% degli iscritti ha scelto di frequentare il corso di polacco. Prendendo a caso un iscritto a questo sito, qual è la probabilità che sia una studentessa che NON studia polacco?

- A 4/25
- B 2/5
- C 6/25

58 Si dispone di una bilancia a due piatti con il braccio sinistro che misura un terzo del braccio destro. Se nel piatto sinistro vengono posti 28 pesi uguali fra loro, quanti pesi dello stesso tipo devono essere posizionati nel piatto destro affinché la bilancia risulti in equilibrio?

- A Non è possibile equilibrare la bilancia con un numero intero di pesi
- B 84
- C 112

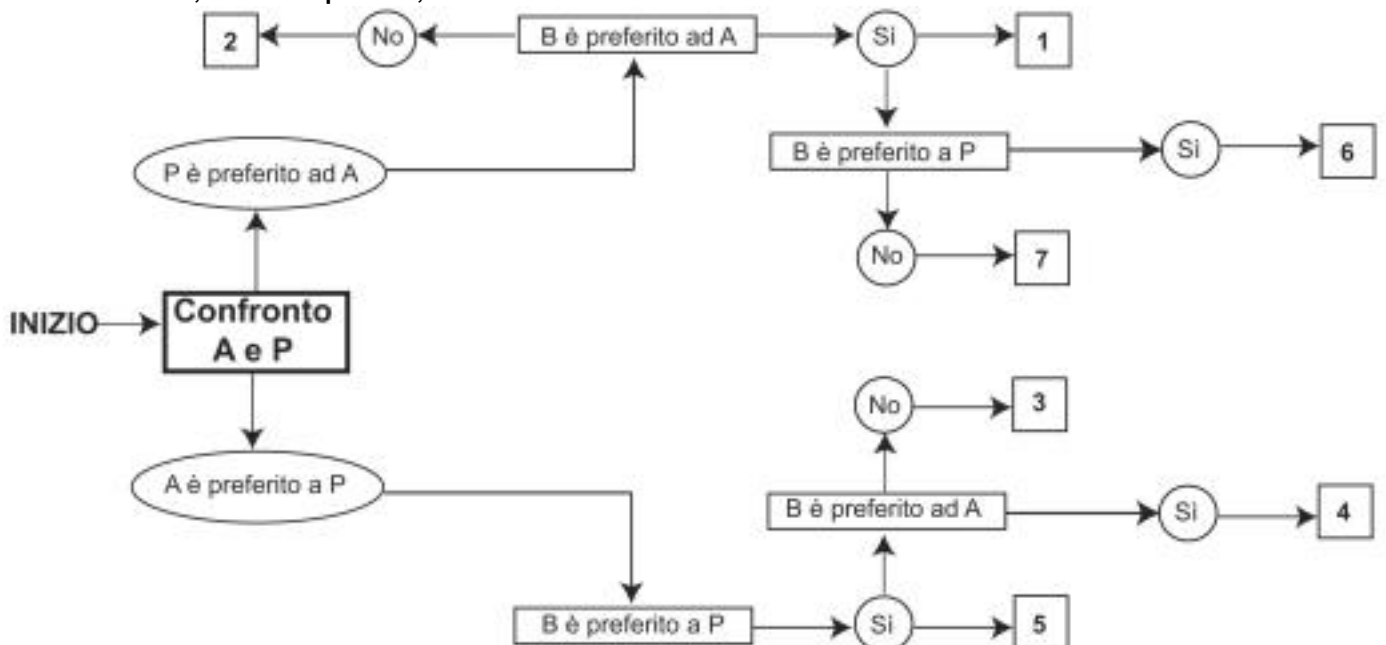
59 Se un tram viaggia a una velocità media di 26 km/h, dopo 2 ore avrà percorso:

- A 52 km
- B 45 km
- C 56 km

**DIAGRAMMA SZ 13**

Un'indagine di mercato indaga sulle abitudini degli italiani per raggiungere il posto di lavoro. Il confronto avviene valutando a due a due tre mezzi di trasporto, giudicandone sempre uno come preferito all'altro e mai due come ugualmente preferiti. L'obiettivo quindi è stabilire un ordine di preferenza.

A = automobile, P = mezzi pubblici, B = bicicletta.



60 Rispondere al seguente quesito facendo riferimento al DIAGRAMMA SZ 13  
Indicare l'ordine di preferenza risultante alla casella "3" del diagramma.

- A ABP
- B BAP
- C Non è possibile stabilire alcun ordine

- 61 **A norma dell'articolo 27 della legge 241/1990, la Commissione per l'accesso ai documenti amministrativi è istituita presso:**
- A** la Presidenza del Consiglio dei Ministri
  - B** ogni Ente pubblico regionale
  - C** ogni Ente pubblico non economico

- 62 **Ai sensi della legge 353/2000, il piano regionale per la programmazione delle attività di previsione, prevenzione e lotta attiva contro gli incendi boschivi:**
- A** è sottoposto a revisione annuale
  - B** non è sottoposto a revisione
  - C** è sottoposto a revisione semestrale

- 63 **La legge 18/2011 della Regione Umbria stabilisce che l'Agenzia forestale regionale sia dotata di personale:**
- A** tecnico, amministrativo e operaio
  - B** tecnico, amministrativo e di ricerca
  - C** tecnico, amministrativo e di pubblica sicurezza

- 64 **"Solamente dopo aver lavato la macchina la si può lucidare". In base alla precedente affermazione, quale delle seguenti NON è necessariamente vera?**
- A** Se la macchina non è stata lucidata allora non è stata lavata
  - B** Se la macchina non è stata lavata allora non può essere lucidata
  - C** Se la macchina è stata lucidata significa che è stata lavata

- 65 **Se:**  
**@ + § = 32**  
**@ - § = 2**  
**allora @ è uguale a:**
- A** 17
  - B** 16
  - C** 18

