



**AFOR Umbria**

Agenzia Forestale Regionale

**Bando di concorso pubblico per titoli ed esami  
per la copertura di complessivi n. 18 posti  
Cat. C posizione economica C1  
a tempo pieno e indeterminato  
di profili tecnici e amministrativi da impiegare  
presso l'Agencia Forestale Regionale dell'Umbria**

**Istruttore tecnico geometra Cat. C  
del CCNL Funzioni Locali**

**Prova 02**

- 1 **A norma del d.P.R. 445/2000, qualora le dichiarazioni sostitutive di certificazioni presentino irregolarità rilevabili d'ufficio, non costituenti falsità, il funzionario competente a ricevere la documentazione:**
- A** dà notizia all'interessato di tale irregolarità
  - B** non sospende il procedimento, ma trasmette direttamente gli atti alla Procura della Repubblica
  - C** non sospende il procedimento in nessun caso

- 2 **La Costituzione afferma che i pubblici impiegati sono al servizio:**
- A** della Nazione
  - B** del Governo
  - C** della Costituzione

- 3 **Ai sensi dell'art. 55-quinquies del d.lgs. 165/2001 e s.m.i. il pubblico impiegato che commette il reato di false attestazioni o certificazioni è obbligato a risarcire il danno all'immagine subito dall'Amministrazione?**
- A** Sì, è obbligato
  - B** Sì, ma solo se si configura l'esistenza del dolo
  - C** No, mai

- 4 **In base all'art. 24 della legge 7 agosto 1990, n. 241, l'accesso ai documenti amministrativi:**
- A** non può essere negato ove sia sufficiente fare ricorso al potere di differimento
  - B** può essere negato se ricorrono i presupposti per poterlo differire
  - C** può essere negato in base al potere di discernimento

- 5 **Ai sensi dell'art. 5 del d.P.R. 184/2006 (regolamento sull'accesso ai documenti amministrativi), il richiedente deve comprovare l'interesse connesso all'oggetto dell'istanza di accesso informale?**
- A** Sì, ove occorra
  - B** No, in nessun caso
  - C** Solo se gli atti non sono soggetti alla legislazione sulla privacy

- 6 **Ai sensi dell'art. 53 del d.lgs. 165/2001, le Pubbliche Amministrazioni possono conferire incarichi retribuiti a dipendenti di altre Pubbliche Amministrazioni?**
- A** Sì, se conferiti o previamente autorizzati dall'Amministrazione di appartenenza
  - B** Sì, anche senza coinvolgere l'Amministrazione di appartenenza dei dipendenti stessi in quanto, tra diverse Pubbliche Amministrazioni, non può darsi il caso di incompatibilità
  - C** No, perché si configurerebbe un caso di cumulo di incarichi

---

7 HB0007  
**In base al d.lgs. 33/2013, la trasparenza dei dati e documenti detenuti dalle Pubbliche Amministrazioni concorre ad attuare il principio:**  
**A** democratico  
**B** rappresentativo  
**C** lavorista

---

8 HB0008  
**In base al d.lgs. 39/2013, se un soggetto si trova in stato di l'inconferibilità di incarichi a seguito di condanna per reati contro la Pubblica Amministrazione, per la quale viene pronunciata sentenza di proscioglimento:**  
**A** la situazione di inconferibilità cessa di diritto  
**B** il termine dell'inconferibilità è dimezzato  
**C** l'interessato può domandare la revoca dell'inconferibilità

---

9 HB0009  
**La legge 190/2012 prevede che si possa aggiornare il Piano nazionale anticorruzione?**  
**A** Sì, deve esserlo, ogni anno  
**B** Sì, deve esserlo, ogni biennio  
**C** Sì, può esserlo quando se ne ravvisa la necessità

---

10 HB0010  
**Ai sensi del GDPR, che cosa si intende per trattamento dei dati personali?**  
**A** Qualsiasi operazione di raccolta e gestione dei dati personali compiuta con qualsiasi modalità  
**B** Qualsiasi operazione di raccolta e gestione dei dati personali compiuta senza l'ausilio di strumenti elettronici  
**C** Qualsiasi operazione di raccolta e gestione dei dati personali compiuta solo con strumenti elettronici

---

11 HB0011  
**Ai sensi del d.lgs. 81/2008, si definisce "pericolo":**  
**A** la proprietà o qualità intrinseca di un determinato fattore avente il potenziale di causare danni  
**B** la probabilità, oltre un certo limite, di raggiungimento del livello potenziale di danno nelle condizioni di impiego o di esposizione a un determinato fattore o agente oppure alla loro combinazione  
**C** la probabilità, al di sotto di un certo limite, di raggiungimento del livello potenziale di danno nelle condizioni di impiego o di esposizione a un determinato fattore o agente oppure alla loro combinazione

---

12 HB0012  
**A norma di legge, il datore di lavoro deve fornire ai lavoratori i dispositivi di protezione individuale necessari?**  
**A** Sì, è tenuto a fornirli e mantenerli in efficienza  
**B** No, vi deve provvedere il singolo lavoratore  
**C** No, vi deve provvedere il Ministero della Sanità

- 
- HB0013
- 13 **In base al decreto del Ministero delle Infrastrutture e dei Trasporti 49/2018, se vengono a cessare le cause della sospensione dei lavori e il RUP non dispone la ripresa dei lavori entro il termine stabilito, l'esecutore può:**
- A** diffidare il RUP a dare le opportune disposizioni al direttore dei lavori perché provveda alla ripresa
  - B** riprendere i lavori e ottenere un aumento dell'importo contrattuale
  - C** diffidare il direttore dei lavori e ottenere un compenso per l'ammortamento dei beni e le retribuzioni inutilmente corrisposte per tutto il periodo di sospensione non dovuta
- 
- HB0014
- 14 **Secondo il d.lgs. 81/2008 e s.m.i., chi redige il Piano di Sicurezza e di Coordinamento?**
- A** Il Coordinatore per la Sicurezza nella fase di Progettazione (C.S.P.)
  - B** Il Coordinatore per la Sicurezza nella fase di Esecuzione (C.S.E.)
  - C** L'impresa appaltatrice
- 
- HB0015
- 15 **Ai sensi dell'articolo 35, comma 3, del d.lgs. 50/2016, in tema di soglie di rilevanza comunitaria e metodi di calcolo del valore stimato degli appalti, tali soglie sono periodicamente rideterminate con provvedimento:**
- A** della Commissione europea
  - B** del Consiglio europeo
  - C** del Parlamento europeo
- 
- HB0016
- 16 **Le disposizioni della legge 353/2000 (Legge Quadro in materia di incendi boschivi) sono dalla legge stessa qualificate come:**
- A** principi fondamentali dell'ordinamento ai sensi dell'art. 117 della Costituzione
  - B** norme di secondo grado
  - C** norme transitorie
- 
- HB0017
- 17 **Ai sensi della legge 353/2000, il piano di previsione, prevenzione e lotta attiva contro gli incendi boschivi per i parchi naturali dello Stato:**
- A** è predisposto dal Ministero dell'Ambiente di intesa con le Regioni interessate
  - B** è redatto dalle Regioni interessate
  - C** è predisposto e redatto dagli Enti gestori
- 
- HB0018
- 18 **Tutti i documenti, le informazioni e i dati oggetto di accesso civico, ivi compresi quelli oggetto di pubblicazione obbligatoria ai sensi della normativa vigente:**
- A** sono pubblici
  - B** sono a disposizione dei cittadini, a fronte di motivata richiesta
  - C** non sono fruibili gratuitamente
-

- 
- 19 HB0019  
**In base al d.lgs. 81/2008, che cosa si intende per "formazione"?**
- A** Un processo educativo attraverso il quale trasferire ai lavoratori le conoscenze utili all'acquisizione di competenze per lo svolgimento in sicurezza dei rispettivi compiti in azienda e alla gestione dei rischi
  - B** Il complesso delle attività dirette a fornire conoscenze utili all'identificazione, riduzione e gestione dei rischi in ambiente di lavoro
  - C** Il complesso delle attività dirette a far apprendere ai lavoratori l'uso corretto di attrezzature, macchine, impianti, sostanze, dispositivi e le procedure di lavoro
- 
- 20 HB0020  
**In base all'art. 1 della legge regionale dell'Umbria 21/01/2015, n. 1 le attività comprese nel governo del territorio si esplicano nelle materie attinenti:**
- A** l'urbanistica e l'edilizia
  - B** l'urbanistica e la salvaguardia dell'ambiente
  - C** il commercio, l'edilizia e la pubblica sicurezza
- 
- 21 HB0021  
**In base all'art. 2 della legge regionale dell'Umbria 21/01/2015, n. 1, il diritto di accedere alle informazioni relative allo stato dell'ambiente è riconosciuto dalla Regione:**
- A** a tutti
  - B** ai portatori di un interesse
  - C** ai portatori di un interesse qualificato
- 
- 22 HB0022  
**L'art. 3 della legge regionale dell'Umbria 21/01/2015, n. 1 denomina la "modalità generale di governo del territorio":**
- A** pianificazione
  - B** programmazione
  - C** regolamentazione
- 
- 23 HB0023  
**In base all'art. 6 della legge regionale dell'Umbria 21/01/2015, n. 1 quali delle seguenti funzioni amministrative sono conferite alle Province?**
- A** Le funzioni in materia di viabilità
  - B** Le funzioni in materia di strumenti urbanistici
  - C** Le funzioni in materia paesaggistica
- 
- 24 HB0024  
**Rete Natura 2000 è stata istituita:**
- A** dalla direttiva 92/43/CEE del Consiglio del 21 maggio 1992
  - B** dal d.lgs. 152/2006
  - C** dal d.P.R. 357/1997
-

- 
- HB0025
- 25 In base alla legge 9/1995 e s.m.i. della Regione Umbria, il Piano regionale delle Aree naturali protette è predisposto:
- A** dalla Giunta regionale
  - B** dal Consiglio regionale
  - C** dall'Agenzia forestale regionale
- 
- HB0026
- 26 In base al d.lgs. 152/2006 "Norme in materia ambientale", l'attività della Pubblica Amministrazione deve essere finalizzata a consentire la migliore attuazione possibile del principio:
- A** dello sviluppo sostenibile
  - B** dell'intangibilità dell'ambiente
  - C** del minor sacrificio possibile delle risorse naturali
- 
- HB0027
- 27 In base al d.lgs. 42/2004 "Codice dei beni culturali e del paesaggio", i beni del patrimonio culturale di appartenenza pubblica sono destinati alla fruizione della collettività, sempre che non vi ostino ragioni di:
- A** tutela
  - B** ordine pubblico
  - C** economia
- 
- HB0028
- 28 In base al d.P.R. 31/2017, quale dei seguenti è un intervento di lieve entità, in aree sottoposte a tutela paesaggistica, per il quale è previsto un procedimento autorizzatorio semplificato?
- A** Incrementi di volume non superiori al 10 per cento della volumetria della costruzione originaria e comunque non superiori a 100 mc, eseguiti nel rispetto delle caratteristiche architettoniche, morfo-tipologiche, dei materiali e delle finiture esistenti
  - B** interventi che abbiano finalità di consolidamento statico degli edifici, purché non comportanti modifiche alle caratteristiche morfotipologiche, ai materiali di finitura o di rivestimento, o alla volumetria e all'altezza dell'edificio
  - C** Interventi indispensabili per l'eliminazione di barriere architettoniche, quali la realizzazione di rampe esterne per il superamento di dislivelli non superiori a 60 cm
- 
- HB0029
- 29 La legge regionale della Regione Umbria istitutiva dell'Agenzia forestale regionale è:
- A** l.r. 18/2011
  - B** l.r. 03/1999
  - C** l.r. 01/2015
- 
- HB0030
- 30 In base alla legge 18/2011 della Regione Umbria, quale dei seguenti è un compito dell'Agenzia forestale regionale?
- A** Miglioramento dei boschi esistenti
  - B** Governo della spesa ambientale
  - C** Dialogo e interazione con le associazioni ambientaliste

- 31 In base alla legge 18/2011 della Regione Umbria, la gestione finanziaria dell'Agenzia forestale regionale è improntata a quale dei seguenti criteri?
- A** Efficacia, trasparenza ed economicità
  - B** Efficacia, trasparenza e redditività
  - C** Efficacia, trasparenza ed equilibrio

- 32 In base alla legge 18/2011 della Regione Umbria, la durata della carica dell'Amministratore unico dell'Agenzia forestale regionale è di:
- A** tre anni
  - B** cinque anni
  - C** quattro anni

- 33 in base alle Linee guida dell'ANAC attuative del nuovo Codice degli Appalti, il RUP può svolgere le funzioni di progettista per lavori:
- A** di importo inferiore a 500.000 euro
  - B** di importo non superiore a 300.000 euro
  - C** di qualunque importo

- 34 Le Linee guida dell'ANAC attuative del nuovo Codice degli Appalti chiariscono che l'Autorità, per quanto riguarda il RUP, individua ulteriori requisiti di professionalità rispetto a quanto previsto dal Codice, in relazione:
- A** alla complessità dei lavori
  - B** al costo dei lavori
  - C** alla durata dei lavori

- 35 In base al d.m. 49/2018, se i materiali o i componenti NON risultano conformi alla normativa tecnica nazionale, il direttore dei lavori:
- A** li rifiuta in qualunque tempo
  - B** non li può rifiutare se sono già stati introdotti in cantiere
  - C** ha discrezione nel rifiutarli

- 36 In base alla legge 353/2000, un fuoco con suscettività a espandersi su terreni coltivati o incolti, limitrofi ad aree boscate è detto incendio:
- A** boschivo
  - B** agricolo
  - C** coltivato

---

HB0037

37

A quale definizione corrisponde, in base al d.lgs. 34/2018, la seguente descrizione: “le superfici in attualità di coltura con copertura arborea forestale inferiore al 20 per cento, impiegate principalmente per il pascolo del bestiame”?

- A Prato o pascolo arborato
- B Prato o pascolo permanente
- C Bosco da pascolo

---

HB0038

38

In base al d.lgs 34/2018, ogni intervento di trasformazione del bosco che determini un danno o un danno ambientale ai sensi della normativa vigente:

- A è vietato, ma in alcuni casi può essere preventivamente autorizzato
- B è vietato, ma in alcuni casi può essere preventivamente o successivamente autorizzato se si tratta solo di danno ambientale
- C può essere autorizzato solo per cause di forza maggiore

---

HB0039

39

In base alla legge regionale 28/2001 della Regione Umbria, l'approvazione del censimento degli alberi sottoposti a tutela è di competenza:

- A regionale
- B statale
- C comunitaria

---

HB0040

40

In base alla legge regionale 28/2001 della Regione Umbria, ai fini della ricomprensione nel concetto di “bosco”, le superfici dovranno essere coperte da vegetazione forestale arborea:

- A associata o meno a quella arbustiva
- B necessariamente associata a quella arbustiva
- C purché non associata a quella arbustiva

---

HB0041

41

Un gioco ha le seguenti regole: se un numero è divisibile per 5 vale 7 punti; se è divisibile per 8 vale 6 punti. In base a tali regole, quale dei seguenti numeri vale di più?

- A 40
- B 56
- C 48

---

HB0042

42

Completare correttamente la seguente successione numerica: 46; 69; 100; ?; ?; 132; 110; 133

- A 78; 101
- B 74; 99
- C 69; 79



HB0043

- 43 "Chi legge romanzi o ascolta musica pop ama l'arte. Chi ama l'arte ama la natura". Se le precedenti affermazioni sono vere, allora è vero che:
- A** chi legge romanzi ama la natura
  - B** chi ama l'arte ascolta musica pop
  - C** chi ama la natura legge romanzi

HB0044

- 44 Se è vero che "non tutti i prodotti naturali fanno dimagrire", allora è vero che:
- A** esiste almeno un prodotto naturale che non fa dimagrire
  - B** nessun prodotto naturale fa dimagrire
  - C** i prodotti non naturali fanno dimagrire

HB0045

- 45 Quattro cantanti, Mauro, Walter, Luigi e Fabrizio, hanno scritto ognuno una canzone dedicata alla propria Regione: Lombardia, Toscana, Veneto e Puglia (non necessariamente in quest'ordine). Ognuno dei quattro cantanti, inoltre, suona un solo strumento musicale: chitarra, piano, violino, tromba (non necessariamente in quest'ordine). Si sa che: I) Walter suona la tromba; II) Fabrizio, originario della Lombardia, non suona il piano; III) Mauro non suona la chitarra. In base alle informazioni precedenti è certamente vero che Luigi:
- A** suona la chitarra, se Mauro suona il piano e Fabrizio suona il violino
  - B** è pugliese
  - C** suona il piano solo se Fabrizio suona il violino

HB0046

- 46 Mirella investe 40.000 euro in un fondo che garantisce un rendimento annuo del 20% per 3 anni. A quanto ammonta l'incremento di valore registrato dalla sua partecipazione solamente nel primo anno?
- A** 8.000 euro
  - B** 11.520 euro
  - C** A un importo identico a quello del secondo anno

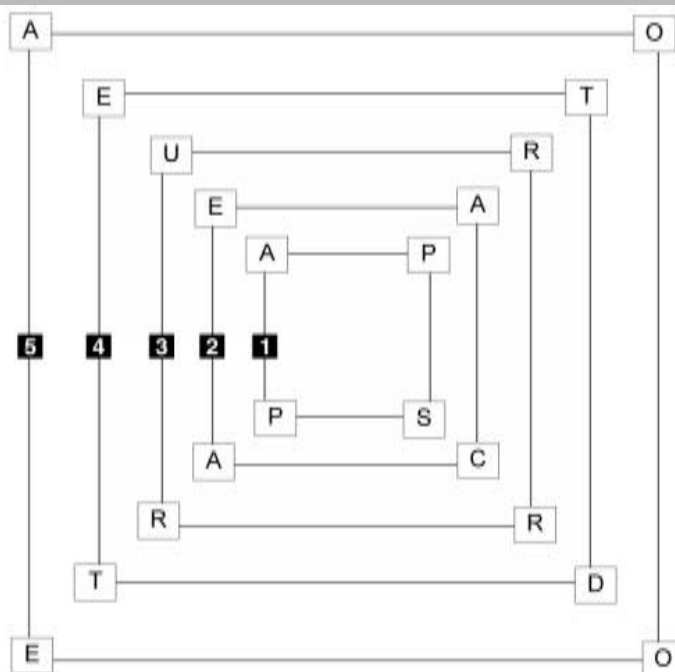
HB0047

- 47 Se un orologio digitale segna le 4.45 di lunedì, tra 47 ore e 30 minuti saranno:
- A** le 4.15 di mercoledì
  - B** le 0.15 di martedì
  - C** le 4.15 di giovedì

HB0048

- 48 Quali tra i termini proposti completano correttamente la seguente proporzione? Cronometro : tempo = X : Y
- A** X = termometro; Y = temperatura
  - B** X = orologio; Y = chilometri
  - C** X = barometro; Y = gradi

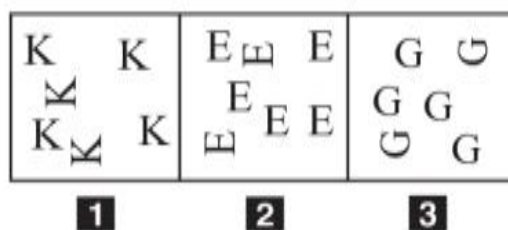
FIGURA TZ 46



- 49 Rispondere al seguente quesito facendo riferimento alla FIGURA TZ 46 HB0049  
 Quale quadrato e di quanti gradi deve ruotare perché si formino quattro parole di senso compiuto?  
**A** Il quadrato 3 di 180°  
**B** Il quadrato 2 di 90°  
**C** Il quadrato 3 di 90°

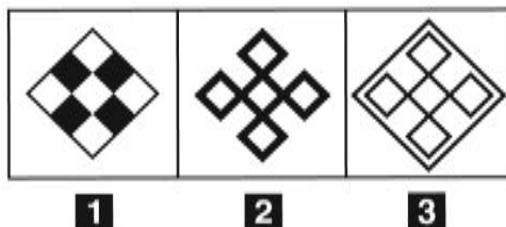
- 50 Indicare in quale delle seguenti alternative la lettera Q è presente un numero maggiore di volte rispetto alla lettera O. HB0050  
 O.  
**A** QOOQOQQOQOQQOQ  
**B** OOOQOQQQOOQOO  
**C** QOQOQQOQOOQOO

FIGURA SP 38



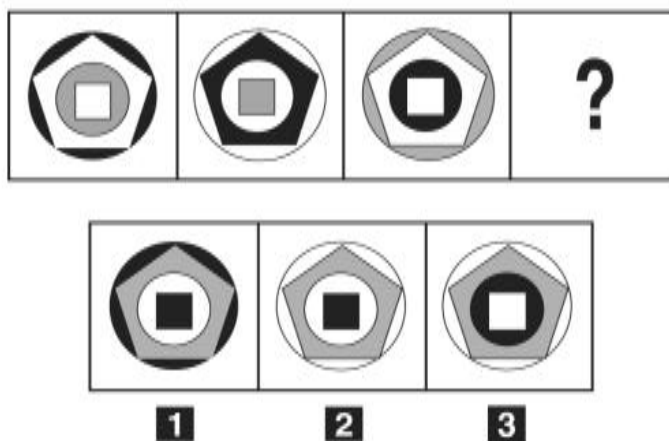
- 51 Rispondere al seguente quesito facendo riferimento alla FIGURA SP 38 HB0051  
 Individuare la figura da scartare.  
**A** Figura 2  
**B** Figura 1  
**C** Figura 3

FIGURA SP 00



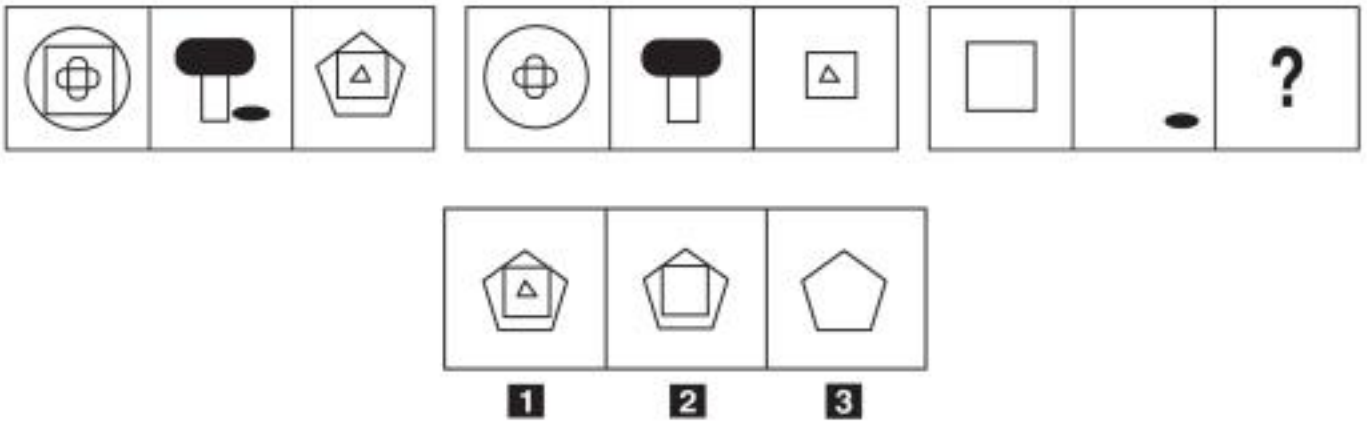
- 52 Rispondere al seguente quesito facendo riferimento alla FIGURA SP 00 HB0052  
 Facendo riferimento alla figura, individuare, tra le alternative proposte, la versione in NEGATIVO della figura data.  
**A** Figura 1  
**B** Figura 2  
**C** Figura 3

FIGURA SR 05



- 53 Rispondere al seguente quesito facendo riferimento alla FIGURA SR 05 HB0053  
 Individuare la figura che completa la serie.  
**A** Figura 2  
**B** Figura 3  
**C** Figura 1

FIGURA SS 98



54 Rispondere al seguente quesito facendo riferimento alla FIGURA SS 98  
Individuare la figura che completa la serie.

HB0054

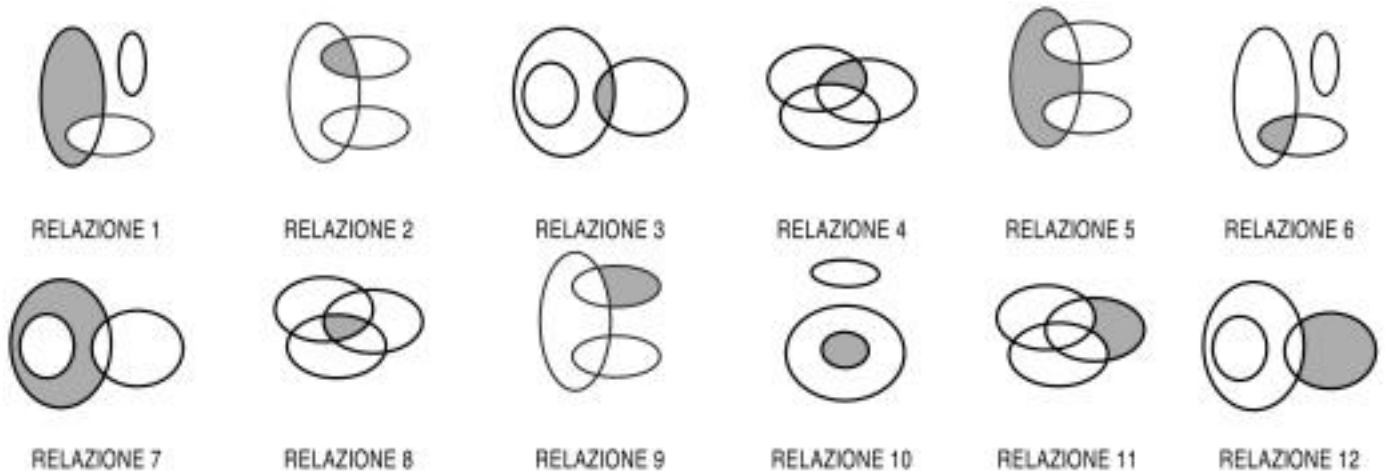
- A** Figura 3
- B** Figura 1
- C** Figura 2

55 Un imbianchino dipinge un appartamento in 18 giorni lavorando per 4 ore al giorno. In quanti giorni potrebbe compiere lo stesso lavoro se lavorasse per 6 ore al giorno?

HB0055

- A** 12 giorni
- B** 14 giorni
- C** 16 giorni

DIAGRAMMA RY 02



56 Rispondere al seguente quesito facendo riferimento al DIAGRAMMA RY 02  
I tre termini "Cantanti italiani, Cantanti rock, Chitarre" sono legati da una relazione insiemistica. All'interno di questa relazione, "Chitarre di cantanti rock" si trova nella parte annerita della:

HB0056

- A** nessuna delle altre alternative è corretta
- B** relazione 2
- C** relazione 6

57 Un sito che offre corsi online ha 455 iscritti, di cui 3/7 sono femmine. Si sa inoltre che il 40% degli iscritti ha scelto di frequentare il corso di coreano. Prendendo a caso un iscritto a questo sito, qual è la probabilità che sia una studentessa che NON studia coreano?

- A 9/35
- B 3/5
- C 6/35

58 Si dispone di una bilancia a due piatti con il braccio sinistro che misura un terzo del braccio destro. Se nel piatto sinistro vengono posti 29 pesi uguali fra loro, quanti pesi dello stesso tipo devono essere posizionati nel piatto destro affinché la bilancia risulti in equilibrio?

- A Non è possibile equilibrare la bilancia con un numero intero di pesi
- B 87
- C 116

59 Se un delfino nuota a una velocità media di 18 km/h, dopo 3 ore avrà percorso:

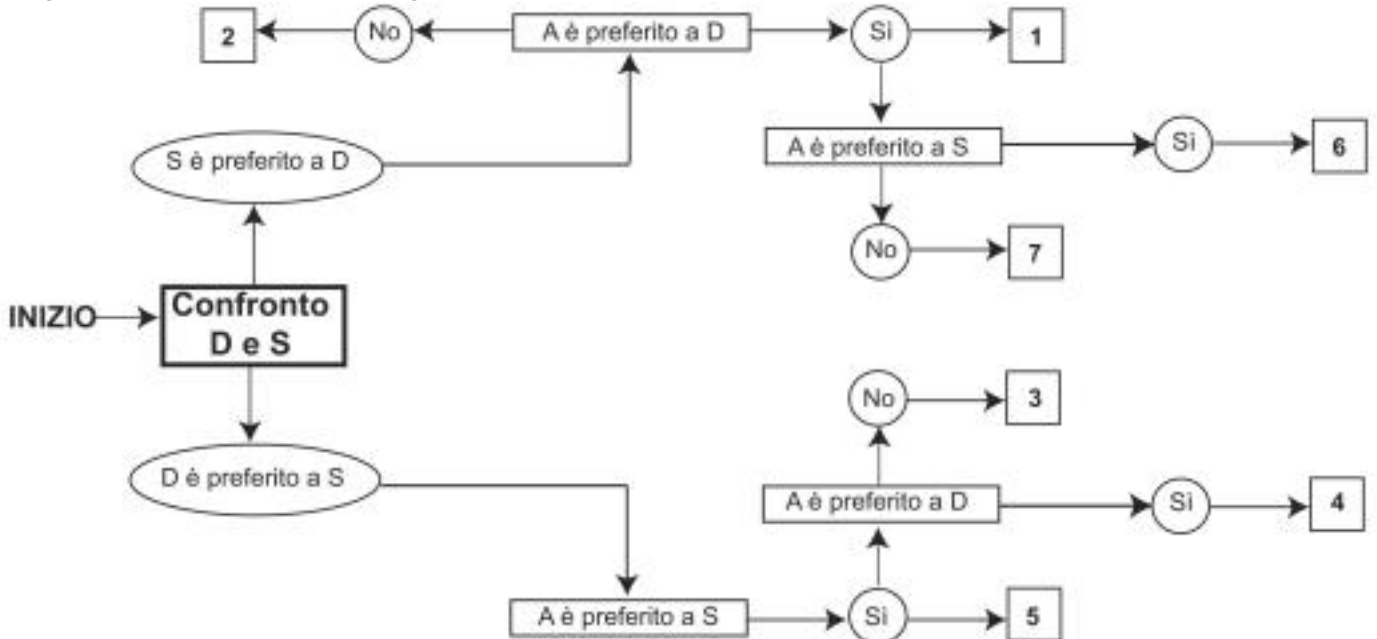
- A 54 km
- B 36 km
- C 49 km

**DIAGRAMMA SZ 50**

Un'indagine di mercato indaga sui gusti degli italiani. Il confronto avviene valutando, a due a due, tre gusti, giudicandone sempre uno come preferito all'altro e mai due come ugualmente preferiti. L'obiettivo quindi è stabilire un ordine di preferenza.

D = dolce, S = salato, A = amaro

Seguendo lo schema riportato in figura, individuare l'ordine di preferenza che corrisponde a ciascuna delle caselle.



60 Rispondere al seguente quesito facendo riferimento al DIAGRAMMA SZ 50  
Indicare l'ordine di preferenza risultante alla casella "6" del diagramma.

- A ASD
- B SDA
- C SAD

- 61 **A norma dell'articolo 27 della legge 241/1990, la Commissione per l'accesso ai documenti amministrativi è istituita presso:**
- A** la Presidenza del Consiglio dei Ministri
  - B** ogni Ente pubblico regionale
  - C** ogni Ente pubblico non economico

- 62 **Ai sensi della legge 353/2000, il piano regionale per la programmazione delle attività di previsione, prevenzione e lotta attiva contro gli incendi boschivi:**
- A** è sottoposto a revisione annuale
  - B** non è sottoposto a revisione
  - C** è sottoposto a revisione semestrale

- 63 **La legge 18/2011 della Regione Umbria stabilisce che l'Agenzia forestale regionale sia dotata di personale:**
- A** tecnico, amministrativo e operaio
  - B** tecnico, amministrativo e di ricerca
  - C** tecnico, amministrativo e di pubblica sicurezza

- 64 **"Solamente dopo aver lavato la macchina la si può lucidare". In base alla precedente affermazione, quale delle seguenti NON è necessariamente vera?**
- A** Se la macchina non è stata lucidata allora non è stata lavata
  - B** Se la macchina non è stata lavata allora non può essere lucidata
  - C** Se la macchina è stata lucidata significa che è stata lavata

- 65 **Se:**  
**@ + § = 32**  
**@ - § = 2**  
**allora @ è uguale a:**
- A** 17
  - B** 16
  - C** 18

